

Question Paper Name :	Group A 13 July 2025 Shift 1 Set A
Subject Name :	Group A
Creation Date :	2025-07-13 12:18:46
Duration :	120
Total Marks :	160
Display Marks:	Yes
Share Answer Key With Delivery Engine :	No
Actual Answer Key :	Yes
Change Font Color :	No
Change Background Color :	No
Change Theme :	No
Help Button :	No
Show Reports :	No
Show Progress Bar :	No

Group A

Group Number :	1
Group Id :	6686221
Group Maximum Duration :	0
Group Minimum Duration :	120
Show Attended Group? :	No
Edit Attended Group? :	No
Break time :	0
Group Marks :	160

Language Proficiency

Section Id :	6686221
Section Number :	1
Section type :	Online
Mandatory or Optional :	Mandatory
Number of Questions :	12
Number of Questions to be attempted :	12
Section Marks :	40
Section Negative Marks :	0.5
Maximum Instruction Time :	0
Sub-Section Number :	1
Sub-Section Id :	6686221
Question Shuffling Allowed :	No

Question Id : 6686221 Question Type : COMPREHENSION Sub Question Shuffling Allowed : No Group Comprehension Questions : No Question Pattern Type : NonMatrix

Question Numbers : (1 to 5)

Question Label : Comprehension

Read the passage carefully and answer the questions that follow choosing the most appropriate alternatives.

In recent years, the role of digital technology in education has expanded significantly. Researchers argue that integrating digital tools into classrooms can enhance student engagement and improve learning outcomes. For example, multimedia presentations and interactive simulations offer diverse ways to understand complex concepts. However, some scholars caution that excessive reliance on technology might lead to reduced critical thinking skills if not balanced with traditional teaching methods. Despite these concerns, the consensus remains that, when used effectively, digital technology is a valuable asset in modern education. Future research is needed to explore the long-term impacts of technology integration on different student populations.

Sub questions

Question Number : 1 Question Id : 6686222 Question Type : MCQ Option Shuffling : No Negative Marks Display Text : 1/4 Correct Marks : 2 Wrong Marks : 0.5

What is the main idea of the passage?

1. Digital technology can enhance education if used properly.
2. Digital technology should replace traditional teaching entirely.
3. Digital tools have no significant impact on learning outcomes.
4. Traditional teaching methods are superior to digital tools.

Question Number : 2 Question Id : 6686223 Question Type : MCQ Option Shuffling : No Negative Marks Display Text : 1/4 Correct Marks : 2 Wrong Marks : 0.5

According to the passage, what is the one benefit of using digital technology in education?

1. It guarantees higher grades for all students.
2. It helps students understand complex concepts.
3. It eliminates the need for teacher instruction.
4. It simplifies all subjects to basic levels.

Question Number : 3 Question Id : 6686224 Question Type : MCQ Option Shuffling : No Negative Marks Display Text : 1/4 Correct Marks : 2 Wrong Marks : 0.5

What concern do some scholars have about the use of digital technology in classrooms?

1. It may be too expensive to implement.
2. It might reduce students' critical thinking skills.
3. It causes distraction and lowers student attendance.
4. It is ineffective for teaching mathematics.

Question Number : 4 Question Id : 6686225 Question Type : MCQ Option Shuffling : No Negative Marks Display Text : 1/4 Correct Marks : 2 Wrong Marks : 0.5

What is the general consensus about digital technology in education?

1. Most experts disagree on its usefulness.
2. It has been fully adopted with no remaining concerns.
3. It is considered harmful and should be avoided.
4. It is viewed as a valuable tool when used effectively.

Question Number : 5 Question Id : 6686226 Question Type : MCQ Option Shuffling : No Negative Marks Display Text : 1/4
Correct Marks : 2 Wrong Marks : 0.5

What does the passage suggest about future research?

1. It should focus on the financial costs of technology in contemporary times.
2. It is unnecessary as the benefits are clear.
3. It should explore long-term effects on different student groups.
4. It should aim at replacing all traditional teaching methods.

Question Id : 6686221 Question Type : COMPREHENSION Sub Question Shuffling Allowed : No Group Comprehension Questions : No Question Pattern Type : NonMatrix

Question Numbers : (1 to 5)

Question Label : Comprehension

Read the passage carefully and answer the questions that follow choosing the most appropriate alternatives.

In recent years, the role of digital technology in education has expanded significantly. Researchers argue that integrating digital tools into classrooms can enhance student engagement and improve learning outcomes. For example, multimedia presentations and interactive simulations offer diverse ways to understand complex concepts. However, some scholars caution that excessive reliance on technology might lead to reduced critical thinking skills if not balanced with traditional teaching methods. Despite these concerns, the consensus remains that, when used effectively, digital technology is a valuable asset in modern education. Future research is needed to explore the long-term impacts of technology integration on different student populations.

Sub questions

Question Number : 1 Question Id : 6686222 Question Type : MCQ Option Shuffling : No Negative Marks Display Text : 1/4 Correct Marks : 2 Wrong Marks : 0.5

What is the main idea of the passage?

1. Digital technology can enhance education if used properly.
2. Digital technology should replace traditional teaching entirely.
3. Digital tools have no significant impact on learning outcomes.
4. Traditional teaching methods are superior to digital tools.

Question Number : 2 Question Id : 6686223 Question Type : MCQ Option Shuffling : No Negative Marks Display Text : 1/4 Correct Marks : 2 Wrong Marks : 0.5

According to the passage, what is the one benefit of using digital technology in education?

1. It guarantees higher grades for all students.
2. It helps students understand complex concepts.
3. It eliminates the need for teacher instruction.
4. It simplifies all subjects to basic levels.

Question Number : 3 Question Id : 6686224 Question Type : MCQ Option Shuffling : No Negative Marks Display Text : 1/4 Correct Marks : 2 Wrong Marks : 0.5

What concern do some scholars have about the use of digital technology in classrooms?

1. It may be too expensive to implement.
2. It might reduce students' critical thinking skills.
3. It causes distraction and lowers student attendance.
4. It is ineffective for teaching mathematics.

Question Number : 4 Question Id : 6686225 Question Type : MCQ Option Shuffling : No Negative Marks Display Text : 1/4 Correct Marks : 2 Wrong Marks : 0.5

What is the general consensus about digital technology in education?

1. Most experts disagree on its usefulness.
2. It has been fully adopted with no remaining concerns.
3. It is considered harmful and should be avoided.
4. It is viewed as a valuable tool when used effectively.

Question Number : 5 Question Id : 6686226 Question Type : MCQ Option Shuffling : No Negative Marks Display Text : 1/4
Correct Marks : 2 Wrong Marks : 0.5

What does the passage suggest about future research?

1. It should focus on the financial costs of technology in contemporary times.
2. It is unnecessary as the benefits are clear.
3. It should explore long-term effects on different student groups.
4. It should aim at replacing all traditional teaching methods.

Sub-Section Number : 2
Sub-Section Id : 6686222
Question Shuffling Allowed : Yes

Which of the following is the appropriate meaning of the idiom ‘Breaking the Bank’?

1. Robbing a bank
2. Buying a bank
3. Being very expensive
4. Buying after a good bargain

Which of the following is the appropriate meaning of the idiom ‘Breaking the Bank’?

1. Robbing a bank
2. Buying a bank
3. Being very expensive
4. Buying after a good bargain

Question Number : 7 Question Id : 6686228 Question Type : MCQ Option Shuffling : No Negative Marks Display Text : 1/4
Correct Marks : 2 Wrong Marks : 0.5

Fill in the blank with the correct option.

My fingers are aching because I _____ since 8 am.

1. writing
2. wrote
3. have written
4. have been writing

Question Number : 7 Question Id : 6686228 Question Type : MCQ Option Shuffling : No Negative Marks Display Text : 1/4
Correct Marks : 2 Wrong Marks : 0.5

Fill in the blank with the correct option.

My fingers are aching because I _____ since 8 am.

1. writing
2. wrote
3. have written
4. have been writing

Question Number : 8 Question Id : 6686229 Question Type : MCQ Option Shuffling : No Negative Marks Display Text : 1/4
Correct Marks : 2 Wrong Marks : 0.5

Use the correct verb form.

Twenty kilometers _____ not a long distance now-a-days.

1. are
2. is
3. was
4. were

Question Number : 8 Question Id : 6686229 Question Type : MCQ Option Shuffling : No Negative Marks Display Text : 1/4
Correct Marks : 2 Wrong Marks : 0.5

Use the correct verb form.

Twenty kilometers _____ not a long distance now-a-days.

1. are
2. is
3. was
4. were

Question Number : 9 Question Id : 66862210 Question Type : MCQ Option Shuffling : No Negative Marks Display Text : 1/4

Correct Marks : 2 Wrong Marks : 0.5

“I received the message _____ 7 o’clock _____ the morning.”

Choose the correct option to complete the sentence.

1. in; at
2. at; at
3. at; in
4. of; at

Question Number : 9 Question Id : 66862210 Question Type : MCQ Option Shuffling : No Negative Marks Display Text : 1/4
Correct Marks : 2 Wrong Marks : 0.5

“I received the message _____ 7 o’clock _____ the morning.”

Choose the correct option to complete the sentence.

1. in; at
2. at; at
3. at; in
4. of; at

Question Number : 10 Question Id : 66862211 Question Type : MCQ Option Shuffling : No Negative Marks Display Text : 1/4
Correct Marks : 2 Wrong Marks : 0.5

Choose the correct option for the expression ‘Slow and inactive.’

1. Exhausted
2. Depleted
3. Distraught
4. Sluggish

Question Number : 10 Question Id : 66862211 Question Type : MCQ Option Shuffling : No Negative Marks Display Text : 1/4
Correct Marks : 2 Wrong Marks : 0.5

Choose the correct option for the expression ‘Slow and inactive.’

1. Exhausted
2. Depleted
3. Distraught
4. Sluggish

Sub-Section Number :
Sub-Section Id :
Question Shuffling Allowed :

3
6686223
No

Question Id : 66862212 Question Type : COMPREHENSION Sub Question Shuffling Allowed : No Group Comprehension Questions : No Question Pattern Type : NonMatrix

Question Numbers : (11 to 15)

Question Label : Comprehension

Read the passage carefully and answer the questions that follow choosing the most appropriate alternatives.

Driving etiquette is a civilized driving behavior comprising observance of rules and propriety. Certain statutory obligations have to be observed. For example, on demand by the competent authority, all documents connected with ownership of the vehicle, driving license, insurance certificate, pollution free certificate are to be produced. When the person driving a vehicle is still a learner, the board L should be prominently displayed. Parking vehicles on the side of the road is illegal, but it is a common feature as the rule is not enforced strictly. To caution a pedestrian or a slow moving vehicle sounding the horn is essential. One should not horn unnecessarily creating sound pollution. At crossroads, those who come from our right path always have precedence. Never take a vehicle from wrong side even if there is space. When another driver makes a mistake, try to correct him if time permits instead of abusing or threatening him.

Sub questions

Question Number : 11 Question Id : 66862213 Question Type : MCQ Option Shuffling : No Negative Marks Display Text : 1/4 Correct Marks : 2 Wrong Marks : 0.5

The one coming from the right at crossroads always has to

-
1. stay behind
 2. come before others
 3. remain where he is
 4. sound horn

Question Number : 12 Question Id : 66862214 Question Type : MCQ Option Shuffling : No Negative Marks Display Text : 1/4 Correct Marks : 2 Wrong Marks : 0.5

Which of the following documents is not mentioned for keeping in a vehicle?

1. Pollution free certificate
2. Insurance certificate
3. PAN Card
4. Driving License

Question Number : 13 Question Id : 66862215 Question Type : MCQ Option Shuffling : No Negative Marks Display Text : 1/4 Correct Marks : 2 Wrong Marks : 0.5

When we make a mistake while driving, we should

1. pick up a quarrel with the person.
2. keep on driving and ignore the matter.
3. issue threats.
4. correct him, if required.

Question Number : 14 Question Id : 66862216 Question Type : MCQ Option Shuffling : No Negative Marks Display Text : 1/4

Correct Marks : 2 Wrong Marks : 0.5

What is the reason for illegal parking of cars on roadside mentioned in the passage?

1. Paucity of space in urban areas
2. Lack of enforcement of rules
3. Absence of legal documents
4. Absence of No Parking notice

Question Number : 15 Question Id : 66862217 Question Type : MCQ Option Shuffling : No Negative Marks Display Text : 1/4
Correct Marks : 2 Wrong Marks : 0.5

While driving a vehicle, a learner has to display which of the following signs?

1. V
2. O
3. SR
4. L

Question Id : 66862212 Question Type : COMPREHENSION Sub Question Shuffling Allowed : No Group Comprehension Questions : No Question Pattern Type : NonMatrix
Question Numbers : (11 to 15)
Question Label : Comprehension

Read the passage carefully and answer the questions that follow choosing the most appropriate alternatives.

Driving etiquette is a civilized driving behavior comprising observance of rules and propriety. Certain statutory obligations have to be observed. For example, on demand by the competent authority, all documents connected with ownership of the vehicle, driving license, insurance certificate, pollution free certificate are to be produced. When the person driving a vehicle is still a learner, the board L should be prominently displayed. Parking vehicles on the side of the road is illegal, but it is a common feature as the rule is not enforced strictly. To caution a pedestrian or a slow moving vehicle sounding the horn is essential. One should not horn unnecessarily creating sound pollution. At crossroads, those who come from our right path always have precedence. Never take a vehicle from wrong side even if there is space. When another driver makes a mistake, try to correct him if time permits instead of abusing or threatening him.

Sub questions

Question Number : 11 Question Id : 66862213 Question Type : MCQ Option Shuffling : No Negative Marks Display Text : 1/4
Correct Marks : 2 Wrong Marks : 0.5

The one coming from the right at crossroads always has to

_____.

1. stay behind
2. come before others
3. remain where he is
4. sound horn

Question Number : 12 Question Id : 66862214 Question Type : MCQ Option Shuffling : No Negative Marks Display Text : 1/4
Correct Marks : 2 Wrong Marks : 0.5

Which of the following documents is not mentioned for keeping in a vehicle?

1. Pollution free certificate
2. Insurance certificate
3. PAN Card
4. Driving License

Question Number : 13 Question Id : 66862215 Question Type : MCQ Option Shuffling : No Negative Marks Display Text : 1/4
Correct Marks : 2 Wrong Marks : 0.5

When we make a mistake while driving, we should

1. pick up a quarrel with the person.
2. keep on driving and ignore the matter.
3. issue threats.
4. correct him, if required.

Question Number : 14 Question Id : 66862216 Question Type : MCQ Option Shuffling : No Negative Marks Display Text : 1/4
Correct Marks : 2 Wrong Marks : 0.5

What is the reason for illegal parking of cars on roadside mentioned in the passage?

1. Paucity of space in urban areas
2. Lack of enforcement of rules
3. Absence of legal documents
4. Absence of No Parking notice

Question Number : 15 Question Id : 66862217 Question Type : MCQ Option Shuffling : No Negative Marks Display Text : 1/4
Correct Marks : 2 Wrong Marks : 0.5

While driving a vehicle, a learner has to display which of the following signs?

1. V
2. O
3. SR
4. L

Sub-Section Number :

4

Sub-Section Id :

6686224

Question Shuffling Allowed :

Yes

Question Number : 16 Question Id : 66862218 Question Type : MCQ Option Shuffling : No Negative Marks Display Text : 1/4
Correct Marks : 2 Wrong Marks : 0.5

Find out the correct sentence.

1. The theory which had proposed by Foucault has been widely accepted.
2. The theory which were proposed by Foucault has been widely accepted.
3. The theory that was proposed by Foucault has been widely accepted.
4. The theory that are proposed by Foucault has been widely accepted.

Question Number : 16 Question Id : 66862218 Question Type : MCQ Option Shuffling : No Negative Marks Display Text : 1/4
Correct Marks : 2 Wrong Marks : 0.5

Find out the correct sentence.

1. The theory which had proposed by Foucault has been widely accepted.
2. The theory which were proposed by Foucault has been widely accepted.
3. The theory that was proposed by Foucault has been widely accepted.
4. The theory that are proposed by Foucault has been widely accepted.

Question Number : 17 Question Id : 66862219 Question Type : MCQ Option Shuffling : No Negative Marks Display Text : 1/4
Correct Marks : 2 Wrong Marks : 0.5

Which of the following is opposite in meaning to the word “Cunning”?

1. Clever
2. Naive
3. Tricky
4. Wily

Question Number : 17 Question Id : 66862219 Question Type : MCQ Option Shuffling : No Negative Marks Display Text : 1/4
Correct Marks : 2 Wrong Marks : 0.5

Which of the following is opposite in meaning to the word “Cunning”?

1. Clever
2. Naive
3. Tricky
4. Wily

Question Number : 18 Question Id : 66862220 Question Type : MCQ Option Shuffling : No Negative Marks Display Text : 1/4

Correct Marks : 2 Wrong Marks : 0.5

Choose the correct form of verb to complete the sentence: “If the funding _____ (approve), the project can begin next semester.”

1. approved
2. had approved
3. is approving
4. is approved

Question Number : 18 Question Id : 66862220 Question Type : MCQ Option Shuffling : No Negative Marks Display Text : 1/4
Correct Marks : 2 Wrong Marks : 0.5

Choose the correct form of verb to complete the sentence: “If the funding _____ (approve), the project can begin next semester.”

1. approved
2. had approved
3. is approving
4. is approved

Question Number : 19 Question Id : 66862221 Question Type : MCQ Option Shuffling : No Negative Marks Display Text : 1/4
Correct Marks : 2 Wrong Marks : 0.5

They conducted interviews with the participants from across _____ Middle East. Choose the correct option.

1. a
2. an
3. the
4. no article needed

Question Number : 19 Question Id : 66862221 Question Type : MCQ Option Shuffling : No Negative Marks Display Text : 1/4
Correct Marks : 2 Wrong Marks : 0.5

**They conducted interviews with the participants from across _____
Middle East. Choose the correct option.**

1. a
2. an
3. the
4. no article needed

Question Number : 20 Question Id : 66862222 Question Type : MCQ Option Shuffling : No Negative Marks Display Text : 1/4
Correct Marks : 2 Wrong Marks : 0.5

“He was known for his ‘resilience’ in the face of academic challenges.”

The word “resilience” means:

1. sensitivity
2. resistance
3. persistence
4. indifference

Question Number : 20 Question Id : 66862222 Question Type : MCQ Option Shuffling : No Negative Marks Display Text : 1/4
Correct Marks : 2 Wrong Marks : 0.5

“He was known for his ‘resilience’ in the face of academic challenges.”

The word “resilience” means:

1. sensitivity
2. resistance
3. persistence
4. indifference

Teaching Aptitude

Section Id :	6686222
Section Number :	2
Section type :	Online
Mandatory or Optional :	Mandatory
Number of Questions :	30
Number of Questions to be attempted :	30
Section Marks :	60
Section Negative Marks :	0.5
Maximum Instruction Time :	0
Sub-Section Number :	1
Sub-Section Id :	6686225
Question Shuffling Allowed :	Yes

Question Number : 21 Question Id : 66862223 Question Type : MCQ Option Shuffling : No Negative Marks Display Text : 1/4
Correct Marks : 2 Wrong Marks : 0.5

Corporal punishment to students is banned in schools because:

1. students become unhappy with the teachers
2. students drop out of school before completion of education
3. parents may lodge complaint against teachers
4. it frequently leads to students' health problems

Question Number : 21 Question Id : 66862223 Question Type : MCQ Option Shuffling : No Negative Marks Display Text : 1/4
Correct Marks : 2 Wrong Marks : 0.5

विद्यालयों में विद्यार्थियों को शारीरिक दंड देना वर्जित है क्योंकि-

1. इसमें विद्यार्थी शिक्षक से नाराज हो जाते हैं
2. शिक्षा पूरी करने से पहले विद्यार्थी विद्यालय छोड़ देते हैं
3. माँ-बाप शिक्षक के खिलाफ शिकायत दर्ज कर सकते हैं
4. कई बार इससे विद्यार्थियों की स्वास्थ्य समस्याएँ उत्पन्न हो जाती है

Question Number : 22 Question Id : 66862224 Question Type : MCQ Option Shuffling : No Negative Marks Display Text : 1/4
Correct Marks : 2 Wrong Marks : 0.5

Mother-tongue of children should be the medium of instruction during early years of schooling, because:

1. children will love their mothers more
2. mothers will love their children more
3. it is the medium of instruction in many countries
4. it makes learning easier and enjoyable

Question Number : 22 Question Id : 66862224 Question Type : MCQ Option Shuffling : No Negative Marks Display Text : 1/4
Correct Marks : 2 Wrong Marks : 0.5

विद्यालयों में प्रारम्भिक दो वर्षों में शिक्षादान का माध्यम विद्यार्थियों की मातृभाषा होनी चाहिए; क्योंकि –

1. बच्चे अपनी माँ से अधिक प्यार करेंगे
2. माँएँ अपने बच्चों से अधिक प्यार करेंगे
3. अनेक देशों में यह शिक्षा का माध्यम है
4. इससे अधिगम अधिक सरल और सुखद होता है

Question Number : 23 Question Id : 66862225 Question Type : MCQ Option Shuffling : No Negative Marks Display Text : 1/4

Correct Marks : 2 Wrong Marks : 0.5

Teaching is a process of:

1. passing information contained in the textbooks to students
2. encouraging students to come to school
3. attracting parents to admit their children in schools
4. making students learn with joy

Question Number : 23 Question Id : 66862225 Question Type : MCQ Option Shuffling : No Negative Marks Display Text : 1/4
Correct Marks : 2 Wrong Marks : 0.5

शिक्षण किसकी प्रक्रिया है ?

1. पाठ्यपुस्तक में दी गई सूचना विद्यार्थियों तक पहुँचाना
2. विद्यार्थियों को विद्यालय में आने को प्रोत्साहित करना
3. माँ-बाप को अपने बच्चों को स्कूल भेजने को आकर्षित करना
4. विद्यार्थियों को आनंद के साथ सीखने को प्रेरित करना

Question Number : 24 Question Id : 66862226 Question Type : MCQ Option Shuffling : No Negative Marks Display Text : 1/4
Correct Marks : 2 Wrong Marks : 0.5

The main reason for including pre-school education as an integral part of school education is to:

1. prepare children for further education
2. reduce the burden of working mothers
3. make the children learn to behave properly
4. increase the duration of schooling

Question Number : 24 Question Id : 66862226 Question Type : MCQ Option Shuffling : No Negative Marks Display Text : 1/4
Correct Marks : 2 Wrong Marks : 0.5

विद्यालयीन शिक्षा के एकीकृत अंश के रूप में प्राक् विद्यालय शिक्षा को अंतर्भुक्त करने के पीछे मुख्य कारण है -

1. परवर्ती शिक्षा के लिए बच्चों को तैयार करना
2. कामकाजी माताओं का कार्यभार कम करना
3. बच्चों को उचित ढंग से बर्ताव करने के लिए सिखाना
4. विद्यालय के समय में वृद्धि करना

Question Number : 25 Question Id : 66862227 Question Type : MCQ Option Shuffling : No Negative Marks Display Text : 1/4
Correct Marks : 2 Wrong Marks : 0.5

The main objective of education is to:

1. prepare the children for different jobs
2. support the parents at home
3. bring reform in the society
4. develop inner potentialities of children

Question Number : 25 Question Id : 66862227 Question Type : MCQ Option Shuffling : No Negative Marks Display Text : 1/4
Correct Marks : 2 Wrong Marks : 0.5

शिक्षा का मुख्य उद्देश्य है -

1. बच्चों को विभिन्न नौकरियों के लिए तैयार करना
2. घर पर माँ-बाप की मदद करना
3. समाज में सुधार लाना
4. बच्चों के अन्तर्निहित गुणों का विकास करना

Question Number : 26 Question Id : 66862228 Question Type : MCQ Option Shuffling : No Negative Marks Display Text : 1/4

Correct Marks : 2 Wrong Marks : 0.5

Which of the following is the basic and the most important quality of a good teacher?

1. Knowledge of subject matter
2. Communication skills
3. Leadership quality
4. Relationship with community

Question Number : 26 Question Id : 66862228 Question Type : MCQ Option Shuffling : No Negative Marks Display Text : 1/4
Correct Marks : 2 Wrong Marks : 0.5

निम्न में से कौन-सा एक अच्छे शिक्षक के लिए आधारभूत और सर्वाधिक महत्वपूर्ण गुण है ?

1. विषयवस्तु का ज्ञान
2. संप्रेषण-कौशल
3. नेतृत्व लेने का गुण
4. समुदाय के साथ संबंध

Question Number : 27 Question Id : 66862229 Question Type : MCQ Option Shuffling : No Negative Marks Display Text : 1/4
Correct Marks : 2 Wrong Marks : 0.5

Which of the following factors influences learning the most?

1. Physical facilities
2. Motivation
3. Mid-day Meal
4. Free Uniform

Question Number : 27 Question Id : 66862229 Question Type : MCQ Option Shuffling : No Negative Marks Display Text : 1/4
Correct Marks : 2 Wrong Marks : 0.5

निम्न में से कौन-सा कारक अधिगम को सर्वाधिक प्रभावित करता है ?

1. शारीरिक सुविधाएं
2. उत्प्रेरण
3. मध्याह्न भोजन
4. मुफ्त पोषाक

Question Number : 28 Question Id : 66862230 Question Type : MCQ Option Shuffling : No Negative Marks Display Text : 1/4
Correct Marks : 2 Wrong Marks : 0.5

Which of the following is the best way to make a teacher integrate technology with development of teaching skill?

1. Encouraging each teacher to create WhatsApp group for her class
2. Ensuring that technology is the part of a specific number of lessons each week
3. Creating an exemplary technology integrated lesson plan for each grade level
4. Modelling the effective use of technology tools throughout the year

Question Number : 28 Question Id : 66862230 Question Type : MCQ Option Shuffling : No Negative Marks Display Text : 1/4
Correct Marks : 2 Wrong Marks : 0.5

निम्न में से कौन-सा शिक्षक के पक्ष में शिक्षण-कौशल-विकास के साथ तकनीक के मिश्रण के लिए सर्वाधिक उपायुक्त तरीका है?

1. हर शिक्षक को अपनी कक्षा के लिए व्हाट्सअप समूह बनाने को प्रोत्साहित करके
2. यह सुनिश्चित करके कि हर हफ्ते कुछ कक्षाओं के लिए तकनीक का उपयोग किया जाए
3. हर ग्रेड के स्तर के लिए एक विशेष तकनीक आधारित शिक्षण योजना बनाकर
4. वर्षभर तकनीकी उपकरणों के प्रभावी उपयोग की योजना बनाकर

Question Number : 29 Question Id : 66862231 Question Type : MCQ Option Shuffling : No Negative Marks Display Text : 1/4
Correct Marks : 2 Wrong Marks : 0.5

The key purpose of asking questions to students during teaching-learning process is to:

1. know whether the students are listening to the teacher
2. know whether the students are understanding the lesson
3. label the students based on their responses to questions
4. communicate parents about the performance of their wards

Question Number : 29 Question Id : 66862231 Question Type : MCQ Option Shuffling : No Negative Marks Display Text : 1/4
Correct Marks : 2 Wrong Marks : 0.5

शिक्षण-अधिगम प्रक्रिया में विद्यार्थियों से प्रश्न पूछने का मुख्य उद्देश्य है -

1. विद्यार्थी मनोयोग पूर्वक शिक्षक को सुन रहे हैं या नहीं, यह जानना
2. विद्यार्थी पाठ को सही ढंग से समझ रहे हैं या नहीं, जानना
3. प्रश्नों के उत्तर के आधार पर विद्यार्थियों का वर्गीकरण करना
4. बच्चों की उपलब्धि के बारे में माँ-बाप को अवगत करना

Question Number : 30 Question Id : 66862232 Question Type : MCQ Option Shuffling : No Negative Marks Display Text : 1/4
Correct Marks : 2 Wrong Marks : 0.5

What should be your approach towards academically poor students?

1. Indifferent
2. Strict
3. Loving
4. Casual

Question Number : 30 Question Id : 66862232 Question Type : MCQ Option Shuffling : No Negative Marks Display Text : 1/4
Correct Marks : 2 Wrong Marks : 0.5

पाठ में कमजोर विद्यार्थियों के प्रति आपका दृष्टिकोण कैसा होना चाहिए ?

1. उदासीन
2. कठोर
3. प्रेमपूर्ण
4. अनौपचारिक

Question Number : 31 Question Id : 66862233 Question Type : MCQ Option Shuffling : No Negative Marks Display Text : 1/4
Correct Marks : 2 Wrong Marks : 0.5

Knowledge of Educational Psychology helps a teacher at the Foundational Stage in:

1. making children disciplined
2. helping children score high
3. understanding children
4. controlling behaviour of children

Question Number : 31 Question Id : 66862233 Question Type : MCQ Option Shuffling : No Negative Marks Display Text : 1/4 Correct Marks : 2 Wrong Marks : 0.5

प्रारम्भिक सोपान पर शिक्षा-मनोविज्ञान का ज्ञान एक शिक्षक की किस प्रकार मदद करता है ?

1. बच्चों को अनुशासित करने में
2. बच्चों को सर्वाधिक अंक प्राप्त करने में मदद करने में
3. बच्चों को समझने में
4. छात्रों के व्यवहार को नियंत्रित करने में

Question Number : 32 Question Id : 66862234 Question Type : MCQ Option Shuffling : No Negative Marks Display Text : 1/4 Correct Marks : 2 Wrong Marks : 0.5

The first teacher of a child is her/his:

1. mother
2. father
3. school teacher
4. siblings

Question Number : 32 Question Id : 66862234 Question Type : MCQ Option Shuffling : No Negative Marks Display Text : 1/4 Correct Marks : 2 Wrong Marks : 0.5

बच्चे का प्रथम शिक्षक/शिक्षिका उसका/उसकी _____ है ?

1. माँ
2. बाप
3. विद्यालय के शिक्षक
4. उसके भाई-बहन

Question Number : 33 Question Id : 66862235 Question Type : MCQ Option Shuffling : No Negative Marks Display Text : 1/4 Correct Marks : 2 Wrong Marks : 0.5

When a student visits the house of a teacher to share her/his problems, the teacher should:

1. contact parents of the student and ask them to solve the problems
2. ask the student to contact him/her in the school
3. suggest her/him to meet the Principal to solve the problem
4. Provide reasonable help to solve her/his problems.

Question Number : 33 Question Id : 66862235 Question Type : MCQ Option Shuffling : No Negative Marks Display Text : 1/4 Correct Marks : 2 Wrong Marks : 0.5

जब कोई विद्यार्थी अपने शिक्षक के घर पर अपनी समस्या करने लेकर पहुँचता है, तब शिक्षक क्या करेंगे ?

1. बच्चे की समस्या के हल के लिए उसके माँ-बाप के साथ संपर्क स्थापित करेंगे
2. विद्यार्थी से विद्यालय में उनसे मिलने को कहेंगे
3. समस्या के समाधान के लिए उसे प्राचार्य से मिलने की सुझाव देंगे
4. उसकी समस्या का हल करने के लिए उपयुक्त सहायता प्रदान करेंगे

Question Number : 34 Question Id : 66862236 Question Type : MCQ Option Shuffling : No Negative Marks Display Text : 1/4 Correct Marks : 2 Wrong Marks : 0.5

On the first day in a class, a teacher should:

1. evaluate the subject knowledge of students
2. try to understand the students
3. ask students to stay disciplined
4. start teaching a lesson

Question Number : 34 Question Id : 66862236 Question Type : MCQ Option Shuffling : No Negative Marks Display Text : 1/4 Correct Marks : 2 Wrong Marks : 0.5

विद्यालय में प्रथम दिन के अवसर पर शिक्षक का कर्तव्य है -

1. विद्यार्थियों के विषय-ज्ञान का मूल्यांकन करेंगे
2. विद्यार्थियों को समझने का प्रयास करेंगे
3. विद्यार्थियों से अनुशासना में रहने का निर्देश देंगे
4. पढ़ाना शुरू कर देंगे

Question Number : 35 Question Id : 66862237 Question Type : MCQ Option Shuffling : No Negative Marks Display Text : 1/4 Correct Marks : 2 Wrong Marks : 0.5

If a lesson taught by a teacher is not properly understood by students, the teacher should:

1. ask students to motivate themselves to learn
2. skip the lesson and proceed to the next lesson
3. change his/her method of teaching the lesson
4. advise students to go for private coaching

Question Number : 35 Question Id : 66862237 Question Type : MCQ Option Shuffling : No Negative Marks Display Text : 1/4 Correct Marks : 2 Wrong Marks : 0.5

यदि शिक्षक के द्वारा पढ़ाया गया कोई पाठ विद्यार्थी सही रूप से समझ नहीं सके, तब शिक्षक -

1. विद्यार्थियों को अपने आप में सीखने की प्रवृत्ति को जगाने को उत्प्रेरित करेंगे
2. उस पाठ को छोड़कर अगले पाठ की ओर बढ़ेंगे
3. अपनी शिक्षण-विधि को बदलेंगे
4. विद्यार्थियों को घरेलू कोचिंग अपनाने को कहेंगे

Question Number : 36 Question Id : 66862238 Question Type : MCQ Option Shuffling : No Negative Marks Display Text : 1/4 Correct Marks : 2 Wrong Marks : 0.5

Which of the following is not a quality of a good teacher?

1. She/he should keep her knowledge updated
2. She/he should love her students
3. She/he should keep herself aloof from the community
4. She/he should have command over subject knowledge

Question Number : 36 Question Id : 66862238 Question Type : MCQ Option Shuffling : No Negative Marks Display Text : 1/4 Correct Marks : 2 Wrong Marks : 0.5

निम्न में से कौन-सा अच्छे शिक्षक का गुण नहीं है ?

1. अपने ज्ञान को अद्यतन बनाए रखना
2. अपने विद्यार्थियों से स्नेह-भाव रखना
3. अपने को समुदाय से अलग-थलग रखना
4. विषय-ज्ञान पर उनकी मजबूत पकड़ होनी चाहिए

Question Number : 37 Question Id : 66862239 Question Type : MCQ Option Shuffling : No Negative Marks Display Text : 1/4 Correct Marks : 2 Wrong Marks : 0.5

Why should a teacher at the Foundational Stage have knowledge of Child Psychology?

1. To help the teacher in making children disciplined
2. To help the teacher in understanding children
3. To enhance the performance of the students in the examination
4. To help the teacher in classroom management

Question Number : 37 Question Id : 66862239 Question Type : MCQ Option Shuffling : No Negative Marks Display Text : 1/4 Correct Marks : 2 Wrong Marks : 0.5

बुनियादी सोपान पर एक शिक्षक को बाल-मनोविज्ञान का ज्ञान होना चाहिए; क्योंकि यह -

1. विद्यार्थियों को अनुशासित रखने के लिए शिक्षक की मदद करता है
2. विद्यार्थियों को समझने में शिक्षक की मदद करता है
3. परीक्षा में छात्रों की प्रदर्शन को बढ़ाता है
4. कक्षा-प्रबंधन में शिक्षक की मदद करता है

Question Number : 38 Question Id : 66862240 Question Type : MCQ Option Shuffling : No Negative Marks Display Text : 1/4 Correct Marks : 2 Wrong Marks : 0.5

If a student is too shy to participate in the teaching-learning process, the teacher should:

1. not ask any question to her / him
2. ask question that can be answered by her/him
3. ask questions that cannot be answered by her/him
4. remain indifferent to the student

Question Number : 38 Question Id : 66862240 Question Type : MCQ Option Shuffling : No Negative Marks Display Text : 1/4 Correct Marks : 2 Wrong Marks : 0.5

यदि कोई विद्यार्थी शिक्षण-अधिगम प्रक्रिया में भाग लेने में संकोच करता है, तो शिक्षक -

1. उससे कोई प्रश्न नहीं पूछेंगे
2. ऐसे प्रश्न पूछेंगे, जिनके उत्तर वह दे सके
3. ऐसे प्रश्न पूछेंगे, जिनके उत्तर वह न दे न सके
4. विद्यार्थी के प्रति उदासीन रहेंगे

Question Number : 39 Question Id : 66862241 Question Type : MCQ Option Shuffling : No Negative Marks Display Text : 1/4 Correct Marks : 2 Wrong Marks : 0.5

When you entered a classroom and started teaching, you found that most of the students are sitting casually, not looking at you, and talking to each other. What should you do in this situation?

1. Stop the lesson and ask students to pay attention towards you
2. Keep teaching with the hope that they'll listen later
3. Ask an interesting question and give an activity to get their attention
4. Tell them that you won't continue to teach until they behave properly

Question Number : 39 Question Id : 66862241 Question Type : MCQ Option Shuffling : No Negative Marks Display Text : 1/4 Correct Marks : 2 Wrong Marks : 0.5

कक्षा में प्रवेश करते ही आपने पढ़ाना शुरू कर दिया; लेकिन आपने देखा कि अधिकतर विद्यार्थी बेतरतीब बैठे हैं। वे आपकी ओर ध्यान न देकर आपस में बातचीत कर रहे हैं। इस स्थिति में आप क्या करेंगे ?

1. पढ़ाना बंद करके विद्यार्थियों से आपकी ओर ध्यान देने को कहेंगे
2. वे लोग कुछ देर बाद आपको सुनेंगे, यह आशा रखकर पढ़ाना जारी रखेंगे
3. विद्यार्थियों का ध्यान आकर्षित करने के लिए उनसे एक दिलचस्प प्रश्न पूछते हुए कोई कार्य करने को कहेंगे
4. उनसे कहेंगे कि जब तक वे सही व्यवहार नहीं करते, तब तब आप पढ़ाई आगे नहीं बढ़ाएँगे

Question Number : 40 Question Id : 66862242 Question Type : MCQ Option Shuffling : No Negative Marks Display Text : 1/4 Correct Marks : 2 Wrong Marks : 0.5

In your class, some students grasp concepts quickly, while others struggle. How would you handle this situation?

1. Continue at the pace of the faster learners
2. Adopt team-teaching involving special educators
3. Offer additional support/activities to struggling students
4. Keep your pace suitable for the average level learners

Question Number : 40 Question Id : 66862242 Question Type : MCQ Option Shuffling : No Negative Marks Display Text : 1/4 Correct Marks : 2 Wrong Marks : 0.5

आपकी कक्षा में कई विद्यार्थी अवधारणा को जल्दी आत्मसात कर लेते हैं, जबकि अन्य विद्यार्थी उससे जूझते रहते हैं। आप इस स्थिति को कैसे संभालेंगे ?

1. जल्दी सीखने वालों की गति से पढ़ाना जारी रखेंगे
2. विशिष्ट प्रशिक्षकों की सहायता से टोली-शिक्षण को अपनाएँगे
3. संघर्षशील विद्यार्थियों को अधिक मदद/ कार्य प्रदान करेंगे
4. सामान्य स्तर के शिक्षार्थियों के लिए उपयुक्त गति से पढ़ाएँगे

Question Number : 41 Question Id : 66862243 Question Type : MCQ Option Shuffling : No Negative Marks Display Text : 1/4 Correct Marks : 2 Wrong Marks : 0.5

How would you best support your students, in the age group of 12–18 years, to create a positive environment in school?

1. Allowing them to express freely
2. Teaching them to respect elders
3. Taking disciplinary actions on children for breaching rules
4. Creating good school infrastructure

Question Number : 41 Question Id : 66862243 Question Type : MCQ Option Shuffling : No Negative Marks Display Text : 1/4 Correct Marks : 2 Wrong Marks : 0.5

विद्यालय में एक सकारात्मक वातावरण उत्पन्न करने के लिए 12-18 आयु वर्ग के विद्यार्थियों की आप कैसे मदद करेंगे ?

1. विद्यार्थी अपनी भावनाओं को स्वतंत्र रूप से व्यक्त करें
2. उन्हें बड़ों का सम्मान करना सिखाएँगे
3. नियम भंग करने वाले विद्यार्थियों पर अनुशासनात्मक कार्यवाही करेंगे
4. उन्नत विद्यालय संरचना का निर्माण करना

Question Number : 42 Question Id : 66862244 Question Type : MCQ Option Shuffling : No Negative Marks Display Text : 1/4 Correct Marks : 2 Wrong Marks : 0.5

Which one of the following is best suited for emotional development of children?

1. Democratic classroom environment
2. Non-involvement of teachers
3. Controlled classroom environment
4. Authoritarian classroom environment

Question Number : 42 Question Id : 66862244 Question Type : MCQ Option Shuffling : No Negative Marks Display Text : 1/4 Correct Marks : 2 Wrong Marks : 0.5

बच्चों के संवेगात्मक विकास के लिए निम्न में से कौन-सा सर्वाधिक उपयुक्त है ?

1. गणतांत्रिक कक्षा-परिवेश
2. शिक्षकों की असंपृक्ति
3. नियंत्रित कक्षा-परिवेश
4. सत्तावादी कक्षा-परिवेश

Question Number : 43 Question Id : 66862245 Question Type : MCQ Option Shuffling : No Negative Marks Display Text : 1/4 Correct Marks : 2 Wrong Marks : 0.5

What will be your reaction if a sincere and punctual student comes late to your class?

1. You will try to know the reason for coming late
2. You will tell him/her the importance of time
3. You will ask him/her to wait for the next class
4. You will report the matter to the school head

Question Number : 43 Question Id : 66862245 Question Type : MCQ Option Shuffling : No Negative Marks Display Text : 1/4

Correct Marks : 2 Wrong Marks : 0.5

यदि कोई निष्ठावान और समयानुवर्ती विद्यार्थी आपकी कक्षा में देर से आए तो आपकी प्रतिक्रिया क्या होगी ?

1. उसकी देर से आने की वजह जानने की कोशिश करेंगे
2. आप उसे समय के महत्व के बारे में बताएँगे
3. आप उसे बाद की कक्षा आने तक बाहर प्रतीक्षा करने को कहेंगे
4. आप प्रधानाचार्य को इसकी सूचना देंगे

Question Number : 44 Question Id : 66862246 Question Type : MCQ Option Shuffling : No Negative Marks Display Text : 1/4
Correct Marks : 2 Wrong Marks : 0.5

Which of the following is not a characteristic of the teaching profession?

1. Pre-service Training
2. Specialized knowledge
3. Private coaching
4. In-service Training

Question Number : 44 Question Id : 66862246 Question Type : MCQ Option Shuffling : No Negative Marks Display Text : 1/4
Correct Marks : 2 Wrong Marks : 0.5

निम्न में से कौन-सी शिक्षण-वृत्ति की विशेषता नहीं है ?

1. सेवा-पूर्व प्रशिक्षण
2. विशेषज्ञता प्राप्त ज्ञान
3. प्राइवेट ट्यूशन
4. सेवाकालीन प्रशिक्षण

Question Number : 45 Question Id : 66862247 Question Type : MCQ Option Shuffling : No Negative Marks Display Text : 1/4
Correct Marks : 2 Wrong Marks : 0.5

Which of the following is the main objective of teaching?

1. To prepare students for examination
2. To develop thinking skills of students
3. To provide learning resources to students
4. To guide students to choose right career

Question Number : 45 Question Id : 66862247 Question Type : MCQ Option Shuffling : No Negative Marks Display Text : 1/4
Correct Marks : 2 Wrong Marks : 0.5

निम्न में से कौन-सा शिक्षण का मुख्य उद्देश्य है ?

1. विद्यार्थी को परीक्षा के लिए तैयार करना
2. विद्यार्थी के चिंतन कौशल का विकास करना
3. विद्यार्थी के लिए अधिगम संसाधन उपलब्ध कराना
4. सही कैरियर चुनने में विद्यार्थियों का मार्गदर्शन करना

Question Number : 46 Question Id : 66862248 Question Type : MCQ Option Shuffling : No Negative Marks Display Text : 1/4
Correct Marks : 2 Wrong Marks : 0.5

Which of the following indicates that teaching is of good quality?

1. Maintaining discipline in the classroom
2. Standard of questions raised by the students
3. Percentage of students appearing in the Board Examination
4. Standard of questions asked by the teacher.

Question Number : 46 Question Id : 66862248 Question Type : MCQ Option Shuffling : No Negative Marks Display Text : 1/4
Correct Marks : 2 Wrong Marks : 0.5

निम्न में से कौन-सा गुणवत्तापूर्ण शिक्षण का संकेत देता है ?

1. कक्षा में अनुशासन बनाए रखना
2. विद्यार्थी द्वारा पूछे गए प्रश्नों के स्तर से
3. बोर्ड परीक्षा में योगदान करने वाले विद्यार्थी-प्रतिशत से
4. शिक्षक के द्वारा पूछे गए प्रश्नों के स्तर से

Question Number : 47 Question Id : 66862249 Question Type : MCQ Option Shuffling : No Negative Marks Display Text : 1/4
Correct Marks : 2 Wrong Marks : 0.5

Which is the most important challenge facing a school teacher?

1. To prepare teaching-learning materials
2. To prepare lesson plans and lesson notes
3. To prepare and use assessment items
4. To make teaching-learning process enjoyable

Question Number : 47 Question Id : 66862249 Question Type : MCQ Option Shuffling : No Negative Marks Display Text : 1/4
Correct Marks : 2 Wrong Marks : 0.5

विद्यालय के शिक्षक द्वारा सामना किए जाने वाली सर्वाधिक महत्वपूर्ण चुनौती कौन-सी है ?

1. शिक्षण-अधिगम सामग्री तैयार करना
2. पाठ-योजना और पाठ-नोट्स तैयार करना
3. आकलन-सामग्री की तैयारी और प्रयोग
4. शिक्षण-अधिगम प्रक्रिया को आनंददायी बनाना

Question Number : 48 Question Id : 66862250 Question Type : MCQ Option Shuffling : No Negative Marks Display Text : 1/4
Correct Marks : 2 Wrong Marks : 0.5

If a group of senior students misbehave with you, how would you address the situation?

1. You will inform parents about their wards' misbehaviour
2. You will pacify their emotions politely
3. You will report the matter to the school head
4. You will not react and remain quite

Question Number : 48 Question Id : 66862250 Question Type : MCQ Option Shuffling : No Negative Marks Display Text : 1/4
Correct Marks : 2 Wrong Marks : 0.5

यदि वरिष्ठ विद्यार्थियों की एक टोली आपके साथ दुर्व्यवहार करती है, तो आप उस स्थिति से कैसे निपटेंगे ?

1. आप उनके माँ-बाप को उनके बच्चों के दुर्व्यवहार की सूचना देंगे
2. नम्रता के साथ आप उनकी भावनाओं को शांत करेंगे
3. आप यह घटना विद्यालय के मुख्य को सूचित करेंगे
4. आप कोई प्रतिक्रिया न करके शांत रहेंगे

Question Number : 49 Question Id : 66862251 Question Type : MCQ Option Shuffling : No Negative Marks Display Text : 1/4
Correct Marks : 2 Wrong Marks : 0.5

If a student in your class fails to answer your question, you will:

1. advise him/her to study more
2. provide clues for the correct answer
3. ask another student to answer
4. ask him/her to sit down

Question Number : 49 Question Id : 66862251 Question Type : MCQ Option Shuffling : No Negative Marks Display Text : 1/4
Correct Marks : 2 Wrong Marks : 0.5

यदि आपकी कक्षा में कोई विद्यार्थी आपके प्रश्न का उत्तर देने में असमर्थ है, तो आप क्या करेंगे ?

1. उसे अधिक अध्ययन करने का सुझाव देंगे
2. सही उत्तर के लिए कुछ संकेत देंगे
3. अन्य विद्यार्थी से उत्तर देने को कहेंगे
4. उसे बैठ जाने का आदेश दें

Question Number : 50 Question Id : 66862252 Question Type : MCQ Option Shuffling : No Negative Marks Display Text : 1/4
Correct Marks : 2 Wrong Marks : 0.5

Which of the following is the best method to ensure participation of more students in the teaching-learning process?

1. Role-play
2. Demonstration
3. Lecture
4. Discussion

Question Number : 50 Question Id : 66862252 Question Type : MCQ Option Shuffling : No Negative Marks Display Text : 1/4
Correct Marks : 2 Wrong Marks : 0.5

शिक्षण-अधिगम प्रक्रिया में अधिक विद्यार्थियों की भागीदारी सुनिश्चित करने के लिए निम्न में से कौन-सी सर्वोत्तम विधि है ?

1. अभिनय
2. प्रदर्शन
3. व्याख्यान
4. चर्चा

Reasoning Ability

Section Id :	6686223
Section Number :	3
Section type :	Online
Mandatory or Optional :	Mandatory
Number of Questions :	30
Number of Questions to be attempted :	30
Section Marks :	60
Section Negative Marks :	0.5
Maximum Instruction Time :	0
Sub-Section Number :	1
Sub-Section Id :	6686226
Question Shuffling Allowed :	Yes

Question Number : 51 Question Id : 66862253 Question Type : MCQ Option Shuffling : No Negative Marks Display Text : 1/4
Correct Marks : 2 Wrong Marks : 0.5

Which is the wrong term in the following number series?

1, 5, 15, 43, 125, 368, 1099

1. 43
2. 125
3. 368
4. 1099

Question Number : 51 Question Id : 66862253 Question Type : MCQ Option Shuffling : No Negative Marks Display Text : 1/4
Correct Marks : 2 Wrong Marks : 0.5

निम्न संख्या-शृंखला में कौन-सी संख्या गलत है ?

1, 5, 15, 43, 125, 368, 1099

1. 43
2. 125
3. 368
4. 1099

Question Number : 52 Question Id : 66862254 Question Type : MCQ Option Shuffling : No Negative Marks Display Text : 1/4
Correct Marks : 2 Wrong Marks : 0.5

The two words given below are related in a certain way. Which of the options contain two words that are related the same way?

Circle : Sphere

1. Rectangle : Rhombus
2. Cone : Cylinder
3. Triangle : Prism
4. Square : Cube

Question Number : 52 Question Id : 66862254 Question Type : MCQ Option Shuffling : No Negative Marks Display Text : 1/4
Correct Marks : 2 Wrong Marks : 0.5

नीचे दिए गए दो शब्द किसी निश्चित प्रकार से परस्पर संबन्धित हैं। दिए गए विकल्पों में से कौन-से विकल्प के शब्द परस्पर उसी तरह संबन्धित हैं?

वृत्त : गोला

1. आयत : रॉंबस
2. शंकु : बेलन
3. त्रिभुज : प्रिज्म
4. वर्ग : घन

Question Number : 53 Question Id : 66862255 Question Type : MCQ Option Shuffling : No Negative Marks Display Text : 1/4
Correct Marks : 2 Wrong Marks : 0.5

In a code language, BEAR is written as DEHU, and CHEST is written as FHKVW. How will NORMAL be written in that code language?

1. DOPQRU
2. QRUPDO
3. CNOPQT
4. QDPRUO

Question Number : 53 Question Id : 66862255 Question Type : MCQ Option Shuffling : No Negative Marks Display Text : 1/4

Correct Marks : 2 Wrong Marks : 0.5

एक कोड भाषा में BEAR, DEHU एवं CHEST, FHKVW के रूप में लिखा गया है। उसी कोड भाषा में NORMAL कैसे लिखा जाएगा?

1. DOPQRU
2. QRUPDO
3. CNOPQT
4. QDPRUO

Question Number : 54 Question Id : 66862256 Question Type : MCQ Option Shuffling : No Negative Marks Display Text : 1/4 Correct Marks : 2 Wrong Marks : 0.5

What is the angle formed between the hour and the minute hands of a clock at 4:40 pm?

1. 130°
2. 140°
3. 110°
4. 100°

Question Number : 54 Question Id : 66862256 Question Type : MCQ Option Shuffling : No Negative Marks Display Text : 1/4 Correct Marks : 2 Wrong Marks : 0.5

एक घड़ी में 4.40 pm बजे हैं। इसमें घंटे और मिनट सुई में आपस में कौन-सा कोण रहेगा?

1. 130°
2. 140°
3. 110°
4. 100°

Question Number : 55 Question Id : 66862257 Question Type : MCQ Option Shuffling : No Negative Marks Display Text : 1/4 Correct Marks : 2 Wrong Marks : 0.5

Rekha drove her car Northward, then took a left turn and drove 8 km, and again took a left turn and drove 20 km to reach the market. If the shortest distance between the market and her starting point is 17 km, how far did Rekha drive Northward initially?

1. 3 km
2. 5 km
3. 7 km
4. 10 km

Question Number : 55 Question Id : 66862257 Question Type : MCQ Option Shuffling : No Negative Marks Display Text : 1/4
Correct Marks : 2 Wrong Marks : 0.5

रेखा अपनी कार उत्तर दिशा में चलाकर फिर बाईं ओर मुड़कर बाज़ार तक 20 कि. मी. तक गई। यदि बाज़ार और उसकी यात्रा के प्रारम्भिक बिन्दु के बीच की लघुतम दूरी 17 कि. मी. हो तो रेखा ने शुरुआत में उत्तर दिशा की ओर कितनी दूरी तक कार चलाई थी?

1. 3 km
2. 5 km
3. 7 km
4. 10 km

Question Number : 56 Question Id : 66862258 Question Type : MCQ Option Shuffling : No Negative Marks Display Text : 1/4
Correct Marks : 2 Wrong Marks : 0.5

Select the number pair in which the two numbers are related the same way as the two numbers in the pair given below.

9 : 88

1. 15 : 196
2. 19 : 265
3. 5 : 30
4. 13 : 176

Question Number : 56 Question Id : 66862258 Question Type : MCQ Option Shuffling : No Negative Marks Display Text : 1/4
Correct Marks : 2 Wrong Marks : 0.5

नीचे दी गई दो संख्याएँ परस्पर एक विशेष प्रकार से संबन्धित हैं। दिए गए विकल्पों में से कौन-से विकल्प की दो संख्याएँ परस्पर उसी तरह संबन्धित हैं?

9 : 88

1. 15 : 196
2. 19 : 265
3. 5 : 30
4. 13 : 176

Question Number : 57 Question Id : 66862259 Question Type : MCQ Option Shuffling : No Negative Marks Display Text : 1/4
Correct Marks : 2 Wrong Marks : 0.5

Which is the missing term in the following letter cluster series?

BDF, CFI, EGI, HKN, LNP, ?, WYA

1. QTW
2. PSV
3. QSU
4. RUX

Question Number : 57 Question Id : 66862259 Question Type : MCQ Option Shuffling : No Negative Marks Display Text : 1/4
Correct Marks : 2 Wrong Marks : 0.5

निम्न अक्षर-समूह की शृंखला में कौन सा अक्षर-समूह नहीं है?

BDF, CFI, EGI, HKN, LNP, ?, WYA

1. QTW
2. PSV
3. QSU
4. RUX

Question Number : 58 Question Id : 66862260 Question Type : MCQ Option Shuffling : No Negative Marks Display Text : 1/4 Correct Marks : 2 Wrong Marks : 0.5

Eight persons designated alphabetically from A to H are sitting around a circular table facing the center. A is facing F, who is to the immediate left of B. C is facing G, who is to the immediate right of D. E and H are neighbors, but E is not facing B.

Who are the two persons sitting between B and E?

1. C and F
2. E and H
3. E and G
4. C and H

Question Number : 58 Question Id : 66862260 Question Type : MCQ Option Shuffling : No Negative Marks Display Text : 1/4 Correct Marks : 2 Wrong Marks : 0.5

A से H तक वर्णानुक्रम से नामित आठ व्यक्ति एक गोलाकार मेज की चारों ओर केंद्र की ओर मुँह करके बैठे हैं। A का मुँह F की ओर है जो B की ठीक बाईं ओर है। C का मुँह G की ओर है जो D की ठीक दाहिनी ओर है। E और H पड़ोसी हैं लेकिन E का मुँह B की ओर नहीं है। तब B और E के बीच में कौन-से दो व्यक्ति बैठे हैं?

1. C and F
2. E and H
3. E and G
4. C and H

Question Number : 59 Question Id : 66862261 Question Type : MCQ Option Shuffling : No Negative Marks Display Text : 1/4 Correct Marks : 2 Wrong Marks : 0.5

Three of the following four numbers are alike in a certain way and one is different. Find the odd number.

1. 169
2. 225
3. 289
4. 121

Question Number : 59 Question Id : 66862261 Question Type : MCQ Option Shuffling : No Negative Marks Display Text : 1/4 Correct Marks : 2 Wrong Marks : 0.5

नीचे दी गई चार संख्याओं में से तीन किसी विशेष प्रकार से एक जैसे हैं; पर एक संख्या भिन्न है। उस विषम संख्या को छांटिए।

1. 169
2. 225
3. 289
4. 121

Question Number : 60 Question Id : 66862262 Question Type : MCQ Option Shuffling : No Negative Marks Display Text : 1/4 Correct Marks : 2 Wrong Marks : 0.5

In a row of 33 persons facing North, Virat is 9th from the left end and Smita is 7th from the right end. Debesh is exactly in the middle of Smita and Virat. What is Debesh's position from the right end?

1. 15th
2. 16th
3. 17th
4. 18th

Question Number : 60 Question Id : 66862262 Question Type : MCQ Option Shuffling : No Negative Marks Display Text : 1/4 Correct Marks : 2 Wrong Marks : 0.5

एक पंक्ति में 33 व्यक्ति उत्तर की ओर देखते हैं। विराट बाईं ओर से नौवें स्थान पर और स्मिता दाहिनी ओर से सातवें स्थान पर है। देवेश स्मिता और विराट के ठीक बीच में है। देवेश दाहिनी छोर से किस नंबर पर है?

1. 15th
2. 16th
3. 17th
4. 18th

Question Number : 61 Question Id : 66862263 Question Type : MCQ Option Shuffling : No Negative Marks Display Text : 1/4 Correct Marks : 2 Wrong Marks : 0.5

The numbers in the following triplet are related in a certain way. Which triplet has the numbers related the same way?

(4, 6, 9)

1. (9, 12, 16)
2. (5, 12, 20)
3. (8, 14, 18)
4. (3, 5, 10)

Question Number : 61 Question Id : 66862263 Question Type : MCQ Option Shuffling : No Negative Marks Display Text : 1/4 Correct Marks : 2 Wrong Marks : 0.5

निम्न त्रिक में प्रदत्त संख्याएँ किसी निश्चित रूप से परस्पर संबन्धित हैं। विकल्पों में से कौन से त्रिक की संख्याएँ बिलकुल उसी तरह संबन्धित हैं?

(4, 6, 9)

1. (9, 12, 16)
2. (5, 12, 20)
3. (8, 14, 18)
4. (3, 5, 10)

Question Number : 62 Question Id : 66862264 Question Type : MCQ Option Shuffling : No Negative Marks Display Text : 1/4 Correct Marks : 2 Wrong Marks : 0.5

Seven years from now, Ankush will be as old as Sumeet was five years ago. Six years from now, Arushi will be as old as Ankush is now. Nine years later, the average age of Ankush, Sumeet and Arushi will be 30 years. What is the present age of Arushi?

1. 19 years
2. 21 years
3. 13 years
4. 11 years

Question Number : 62 Question Id : 66862264 Question Type : MCQ Option Shuffling : No Negative Marks Display Text : 1/4 Correct Marks : 2 Wrong Marks : 0.5

आज से पाँच साल पहले सुमित की आयु जितनी थी, आज से सात साल बाद अंकुश की आयु उतनी हो जाएगी। अंकुश आज जितना बड़ा है, छः साल के बाद आरुषि उतनी बड़ी हो जाएगी। आज से नौ साल के बाद अंकुश, सुमित और आरुषि की औसत आयु 30 होगी। आरुषि की वर्तमान आयु कितनी है?

1. 19 years
2. 21 years
3. 13 years
4. 11 years

Question Number : 63 Question Id : 66862265 Question Type : MCQ Option Shuffling : No Negative Marks Display Text : 1/4 Correct Marks : 2 Wrong Marks : 0.5

Select the pair in which the two letter clusters are related the same way as the two letter clusters in the following pair.

BDF : UWY

1. JLN : MOQ
2. DFH : WSU
3. CEG : VXT
4. HJL : OSQ

Question Number : 63 Question Id : 66862265 Question Type : MCQ Option Shuffling : No Negative Marks Display Text : 1/4 Correct Marks : 2 Wrong Marks : 0.5

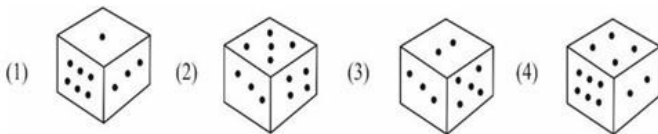
नीचे दिए गए अक्षर-समूह परस्पर एक विशेष प्रकार से संबन्धित हैं। विकल्पों में से किस जोड़ी के अक्षर समूह परस्पर समान रूप से संबन्धित हैं?

BDF : UWY

1. JLN : MOQ
2. DFH : WSU
3. CEG : VXT
4. HJL : OSQ

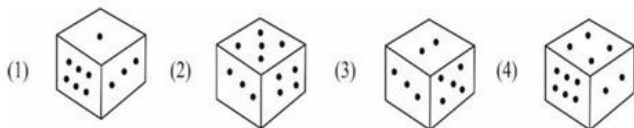
Question Number : 64 Question Id : 66862266 Question Type : MCQ Option Shuffling : No Negative Marks Display Text : 1/4 Correct Marks : 2 Wrong Marks : 0.5

Three of the four figures of cubes are alike in a certain way and one is different. Find the odd one.



Question Number : 64 Question Id : 66862266 Question Type : MCQ Option Shuffling : No Negative Marks Display Text : 1/4 Correct Marks : 2 Wrong Marks : 0.5

नीचे दिए गए चार आरेखों में से तीन किसी निश्चित रूप से एक जैसे हैं, पर एक भिन्न है; आप उस भिन्न आरेख का चयन कीजिए।



Question Number : 65 Question Id : 66862267 Question Type : MCQ Option Shuffling : No Negative Marks Display Text : 1/4 Correct Marks : 2 Wrong Marks : 0.5

How many numbers are there in the following number sequence, which are exactly divisible by 4 but are not immediately preceded by a number divisible by 3?

30, 20, 34, 16, 40, 26, 36, 24, 38, 42, 20, 12, 28, 32, 48, 33, 16, 24, 39, 52, 56

1. 9
2. 8
3. 7
4. 10

Question Number : 65 Question Id : 66862267 Question Type : MCQ Option Shuffling : No Negative Marks Display Text : 1/4 Correct Marks : 2 Wrong Marks : 0.5

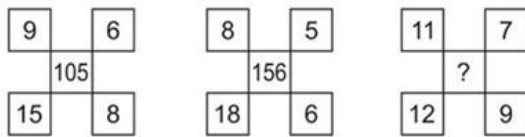
निम्न संख्या-अनुक्रम में 4 से विभाजित हो सकने वाली कितनी ऐसी संख्याएँ हैं जिनके ठीक पहले 3 से विभाजित होने वाली संख्या नहीं है।

30, 20, 34, 16, 40, 26, 36, 24, 38, 42, 20, 12, 28, 32, 48, 33, 16, 24, 39, 52, 56

1. 9
2. 8
3. 7
4. 10

Question Number : 66 Question Id : 66862268 Question Type : MCQ Option Shuffling : No Negative Marks Display Text : 1/4 Correct Marks : 2 Wrong Marks : 0.5

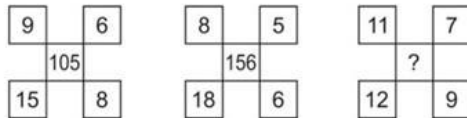
The numbers in the following figures follow a pattern. Find the missing number.



1. 112
2. 132
3. 98
4. 54

Question Number : 66 Question Id : 66862268 Question Type : MCQ Option Shuffling : No Negative Marks Display Text : 1/4 Correct Marks : 2 Wrong Marks : 0.5

निम्न आरेख की संख्याएँ एक विशेष विधि का अनुसरण करती हैं। इस अनुक्रम में कौन-सी संख्या अनुपस्थित है बताइए।



1. 112
2. 132
3. 98
4. 54

Question Number : 67 Question Id : 66862269 Question Type : MCQ Option Shuffling : No Negative Marks Display Text : 1/4 Correct Marks : 2 Wrong Marks : 0.5

Four pairs of words are given below. In three of the pairs, the two words have similar relationship while one is different. Find the odd pair.

1. Humidity : Heat
2. Sun : Warmth
3. Rain : Flood
4. Fruit : Vitamin

Question Number : 67 Question Id : 66862269 Question Type : MCQ Option Shuffling : No Negative Marks Display Text : 1/4 Correct Marks : 2 Wrong Marks : 0.5

नीचे दो-दो शब्दों के चार जोड़े दिए गए हैं। इनमें से तीन जोड़ों के दोनों शब्द परस्पर एक विशेष प्रकार से संबन्धित हैं, पर एक जोड़े के शब्द परस्पर विषम हैं। विषम शब्दों के उस जोड़े को छांटिए।

1. आर्द्रता : ताप
2. सूर्य : गर्मी
3. बारिश : बाढ़
4. फल : विटामिन

Question Number : 68 Question Id : 66862270 Question Type : MCQ Option Shuffling : No Negative Marks Display Text : 1/4 Correct Marks : 2 Wrong Marks : 0.5

Three statements are followed by four conclusions. Assuming the statements to be true, decide which of the conclusion(s) logically follow(s).

Statements:

- 1) All plants are trees.
- 2) All herbs are bushes.
- 3) Some bushes are trees.

Conclusions:

- I. Some herbs are trees.
- II. Some trees are plants.
- III. Some plants are bushes.
- IV. No herb is tree.

1. Only II follows
2. Only I and II follow
3. Only II and either I or IV follow
4. Only I and either II or III follow

Question Number : 68 Question Id : 66862270 Question Type : MCQ Option Shuffling : No Negative Marks Display Text : 1/4 Correct Marks : 2 Wrong Marks : 0.5

तीन वक्तव्यों के बाद चार निष्कर्ष दिए गए हैं। वक्तव्यों को सही माना जाए, तो इनमें से कौन-सा/से निष्कर्ष तर्क-संगत हैं बताइए।

वक्तव्य –

- 1) सभी पौधे पेड़ हैं
- 2) सभी गुल्म झाड़ियाँ हैं
- 3) कुछ झाड़ियाँ पेड़ हैं

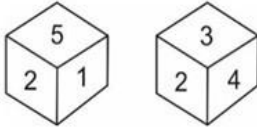
निष्कर्ष

- I. कुछ गुल्म पेड़ हैं
- II. कुछ पेड़ पौधे हैं
- III. कुछ पौधे झाड़ियाँ हैं
- IV. कोई भी गुल्म पेड़ नहीं है

1. केवल II ठीक है
2. केवल I और II ठीक है
3. केवल II और I एवं IV में से कोई एक ठीक है
4. केवल I और II एवं III में से कोई एक ठीक है

Question Number : 69 Question Id : 66862271 Question Type : MCQ Option Shuffling : No Negative Marks Display Text : 1/4 Correct Marks : 2 Wrong Marks : 0.5

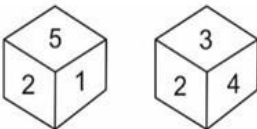
Two rotated positions of a cube are given below. Which number will be at the bottom face if '1' is at the top face?



1. 3
2. 4
3. 5
4. 6

Question Number : 69 Question Id : 66862271 Question Type : MCQ Option Shuffling : No Negative Marks Display Text : 1/4 Correct Marks : 2 Wrong Marks : 0.5

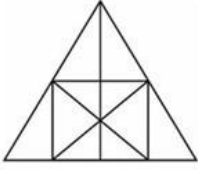
घुमाकर रखे गए एक घन की दो स्थितियाँ दी गई हैं। यदि संख्या -1 को ऊपर की ओर कर दिया जाए, तो नीचे कौन-सी संख्या रहेगी?



1. 3
2. 4
3. 5
4. 6

Question Number : 70 Question Id : 66862272 Question Type : MCQ Option Shuffling : No Negative Marks Display Text : 1/4 Correct Marks : 2 Wrong Marks : 0.5

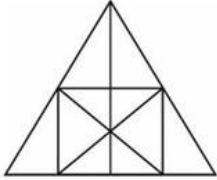
How many triangles are there in the following figure?



1. 19
2. 22
3. 24
4. 25

Question Number : 70 Question Id : 66862272 Question Type : MCQ Option Shuffling : No Negative Marks Display Text : 1/4 Correct Marks : 2 Wrong Marks : 0.5

निम्न आरेख में कितने त्रिभुज हैं?



1. 19
2. 22
3. 24
4. 25

Question Number : 71 Question Id : 66862273 Question Type : MCQ Option Shuffling : No Negative Marks Display Text : 1/4 Correct Marks : 2 Wrong Marks : 0.5

Three of the four words given in the options are alike in a certain way and one is different. Find the odd one.

1. Speech
2. Dance
3. Song
4. Recitation

Question Number : 71 Question Id : 66862273 Question Type : MCQ Option Shuffling : No Negative Marks Display Text : 1/4 Correct Marks : 2 Wrong Marks : 0.5

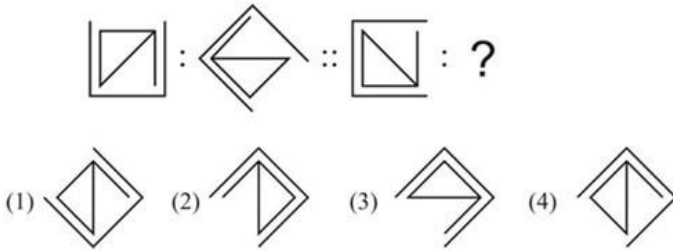
नीचे दिए गए चार में से तीन शब्द परस्पर किसी विशेष रूप से संबन्धित हैं पर एक अलग है। इस अलग शब्द को छांटिए।

1. भाषण
2. नृत्य
3. गीत
4. आवृत्ति

Question Number : 72 Question Id : 66862274 Question Type : MCQ Option Shuffling : No Negative Marks Display Text : 1/4

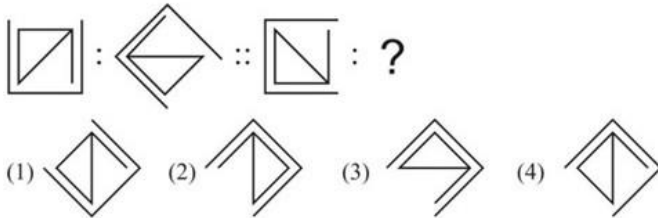
Correct Marks : 2 Wrong Marks : 0.5

The two figures on the left of ‘::’ are related in a certain way. The two figures on the right of ‘::’ are related the same way but one of the figures is missing. Find the missing figure from the options.



Question Number : 72 Question Id : 66862274 Question Type : MCQ Option Shuffling : No Negative Marks Display Text : 1/4 Correct Marks : 2 Wrong Marks : 0.5

‘::’ की बाईं ओर के दोनों आरेख किसी रूप से परस्पर संबन्धित हैं। ‘::’ की दाहिनी ओर के दोनों आरेख भी उसी प्रकार से परस्पर संबन्धित हैं पर उनमें से एक गायब है। विकल्पों में से उस गायब आरेख को बताइए।



Question Number : 73 Question Id : 66862275 Question Type : MCQ Option Shuffling : No Negative Marks Display Text : 1/4 Correct Marks : 2 Wrong Marks : 0.5

Five girls, Kavita, Pinky, Rita, Sheela and Mona are married to Kabir, Pravin, Rehan, Shiva and Manas but not in the same order.

- No husband's name starts with the first letter of his wife's name.
- Rita is not married to Pravin or Shiva.
- Manas is not married to Rita or Pinky.
- Sheela is not the wife of Pravin or Rehan.
- Kavita is married to Shiva.

Who is the husband of Pinky?

- Rehan
- Kabir
- Pravin
- None of these

Question Number : 73 Question Id : 66862275 Question Type : MCQ Option Shuffling : No Negative Marks Display Text : 1/4 Correct Marks : 2 Wrong Marks : 0.5

कविता, पिंकी, रीता, शीला और मोना नाम की पाँच लड़कियों ने कबीर, प्रवीण, रेहान, शिव, और मानस से शादी की, पर समान क्रम से नहीं की।

- i. किसी भी पति का नाम उसकी पत्नी के नाम के प्रथम अक्षर से शुरू नहीं होता
- ii. रीता की शादी प्रवीण या शिव से नहीं हुई है
- iii. मानस की शादी रीता या पिंकी से नहीं हुई है
- iv. शीला प्रवीण या रेहान की पत्नी नहीं है
- v. कविता की शादी शिव से हुई है

पिंकी का पति कौन है?

1. रेहान
2. कबीर
3. प्रवीण
4. इनमें से कोई नहीं

Question Number : 74 Question Id : 66862276 Question Type : MCQ Option Shuffling : No Negative Marks Display Text : 1/4 Correct Marks : 2 Wrong Marks : 0.5

There are six circles of different sizes. Circle A intersects Circle B, which is fully contained in the Circle C. Circle D intersects both A and C, but not Circle B. Circle E, which is fully contained in circle F, intersects D.

Which of the following statement is definitely correct?

1. Some E's are A's.
2. All A's are C's.
3. Some F's are C's.
4. Some D's are both A's and C's.

Question Number : 74 Question Id : 66862276 Question Type : MCQ Option Shuffling : No Negative Marks Display Text : 1/4 Correct Marks : 2 Wrong Marks : 0.5

विविध आकारों वाले छः वृत्त हैं। वृत्त A वृत्त B का प्रतिच्छेदन करता है, जोकि वृत्त C में पूरी तरह समाहित है। वृत्त D, A और C दोनों का प्रतिच्छेदन करता है, पर B का नहीं। वृत्त F में पूरी तरह समाहित वृत्त E, D का प्रतिच्छेदन करता है।

इनमें से कौन-सा कथन ठीक है?

1. कुछ E, A हैं
2. सारे A, C हैं
3. कुछ F, C हैं
4. कुछ D, A और C दोनों हैं

Question Number : 75 Question Id : 66862277 Question Type : MCQ Option Shuffling : No Negative Marks Display Text : 1/4
Correct Marks : 2 Wrong Marks : 0.5

Given below is a statement followed by two assumptions numbered I and II. Which of the assumption(s) is/are implicit in the statement?

Statement: The civic bodies in the city should do more to protect greenery.

Assumptions

- I. Tree felling in the city has drastically increased over the years.
- II. The civil bodies have taken some but not enough steps to protect the green cover in the city.

1. Only I is implicit
2. Only II is implicit
3. Both I and II are implicit
4. Neither I nor II is implicit

Question Number : 75 Question Id : 66862277 Question Type : MCQ Option Shuffling : No Negative Marks Display Text : 1/4
Correct Marks : 2 Wrong Marks : 0.5

नीचे एक कथन के बाद दो मान्यताएँ I और II दी गई हैं। निम्न में कौन-सी मान्यता/मान्यताएँ कथन में अंतर्निहित हैं?

कथन : हरियाली की सुरक्षा के लिए नगर के नागरिक संस्थाओं को कुछ और अधिक करना चाहिए। मान्यताएँ-

- I. नगर में विगत वर्षों में पेड़ों की कटाई में अत्यधिक वृद्धि हुई है।
- II. नगर में हरियाली को सुरक्षित करने के लिए नागरिक संस्थाओं ने कुछ कदम उठाए हैं, जो पर्याप्त नहीं हैं।

1. केवल I उपयुक्त है
2. केवल II उपयुक्त है
3. I और II दोनों उपयुक्त है
4. I और II से कोई भी उपयुक्त नहीं

Question Number : 76 Question Id : 66862278 Question Type : MCQ Option Shuffling : No Negative Marks Display Text : 1/4
Correct Marks : 2 Wrong Marks : 0.5

Rohan told Ishita, 'Your paternal grandfather's daughter is the mother of my son's daughter'. Then, how is Ishita's father related to Rohan's granddaughter?

1. Brother
2. Maternal Uncle
3. Brother-in-Law
4. Paternal Uncle

Question Number : 76 Question Id : 66862278 Question Type : MCQ Option Shuffling : No Negative Marks Display Text : 1/4 Correct Marks : 2 Wrong Marks : 0.5

रोहन ने इशिता से कहा, "आपके दादाजी की बेटी मेरे बेटे की बेटी की माँ है। इशिता के पिता का रोहन की पोती से क्या संपर्क है?"

1. भाई
2. मामा
3. जीजा
4. चाचा

Question Number : 77 Question Id : 66862279 Question Type : MCQ Option Shuffling : No Negative Marks Display Text : 1/4 Correct Marks : 2 Wrong Marks : 0.5

In a certain code, \$ means 'lesser than'; @ means 'greater than'; * means 'not lesser than'; # means 'not greater than'; and % means 'neither greater than nor lesser than'.

If $3B \$ 4A$, and $5C * 11A$, which of the following relationship is true?

1. $C \$ B$
2. $B * C$
3. $C \% B$
4. $C @ B$

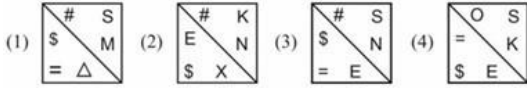
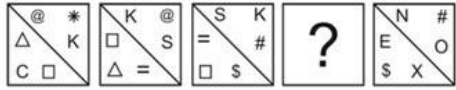
Question Number : 77 Question Id : 66862279 Question Type : MCQ Option Shuffling : No Negative Marks Display Text : 1/4 Correct Marks : 2 Wrong Marks : 0.5

किसी कोड में, \$ का अर्थ है 'उसकी अपेक्षा कम (लेसर देन)'; @ 'उसकी अपेक्षा अधिक (ग्रेटर देन)'; * का अर्थ है 'उससे कम नहीं'; # का अर्थ 'उससे अधिक नहीं', तथा % का अर्थ है 'न अधिक न कम'। यदि $3B \$ 4A$, और $5C * 11A$ हो तो इनमें से कौन-सा विकल्प सही है?

1. $C \$ B$
2. $B * C$
3. $C \% B$
4. $C @ B$

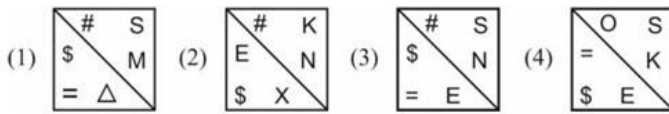
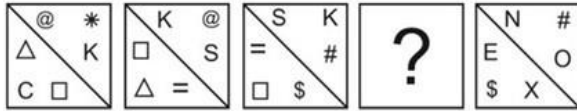
Question Number : 78 Question Id : 66862280 Question Type : MCQ Option Shuffling : No Negative Marks Display Text : 1/4 Correct Marks : 2 Wrong Marks : 0.5

Which is the missing figure in the following figure series?



Question Number : 78 Question Id : 66862280 Question Type : MCQ Option Shuffling : No Negative Marks Display Text : 1/4 Correct Marks : 2 Wrong Marks : 0.5

निम्न आरेख-शृंखला में कौन-सा उपस्थित नहीं है?



Question Number : 79 Question Id : 66862281 Question Type : MCQ Option Shuffling : No Negative Marks Display Text : 1/4
Correct Marks : 2 Wrong Marks : 0.5

A father told his son, "I was twice as old as you were when I was as young as you are now." The sum of the present ages of the father and the son is 85 years. What is the present age of the father?

1. 63 years
2. 57 years
3. 51 years
4. 49 years

Question Number : 79 Question Id : 66862281 Question Type : MCQ Option Shuffling : No Negative Marks Display Text : 1/4
Correct Marks : 2 Wrong Marks : 0.5

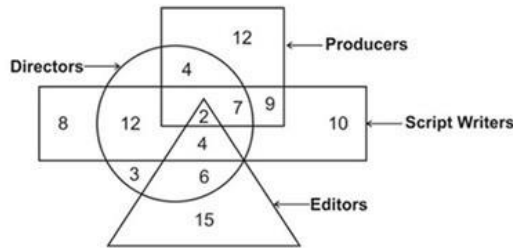
एक पिता ने अपने बेटे से कहा, "अभी तुम जितने वर्ष के हो, मैं जब उतने वर्ष का था, उस समय मेरी उम्र तुमसे दोगुनी थी। पिता-पुत्र की वर्तमान आयु मिलाकर 85 वर्ष हो तो पिता की वर्तमान उम्र कितनी है?"

1. 63 वर्ष
2. 57 वर्ष
3. 51 वर्ष
4. 49 वर्ष

Question Number : 80 Question Id : 66862282 Question Type : MCQ Option Shuffling : No Negative Marks Display Text : 1/4 Correct Marks : 2 Wrong Marks : 0.5

The following diagram shows different categories of people marked against the figures. The numbers in different sections indicate the number of persons.

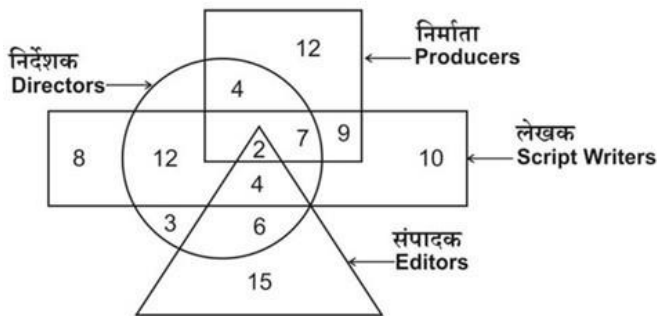
How many script writers are directors as well as producers, but not editors?



1. 11
2. 13
3. 4
4. 7

Question Number : 80 Question Id : 66862282 Question Type : MCQ Option Shuffling : No Negative Marks Display Text : 1/4 Correct Marks : 2 Wrong Marks : 0.5

निम्न आरेख में हर आकृति के सामने विविध वर्गों के लोग दर्शाए गए हैं। आरेख के विभिन्न अनुभागों में लिखी संख्याएँ उन लोगों की संख्या को सूचित करती हैं। इस में कितने ऐसे लेखक हैं जो निर्देशक और निर्माता भी हैं, पर संपादक नहीं हैं?



1. 11
2. 13
3. 4
4. 7