

Question Paper Name :	Group C 13 July 2025 Shift 2 Set A
Subject Name :	Group C
Creation Date :	2025-07-13 15:40:00
Duration :	120
Total Marks :	160
Display Marks:	Yes
Share Answer Key With Delivery Engine :	No
Actual Answer Key :	Yes
Change Font Color :	No
Change Background Color :	No
Change Theme :	No
Help Button :	No
Show Reports :	No
Show Progress Bar :	No

Group C

Group Number :	1
Group Id :	6686225
Group Maximum Duration :	0
Group Minimum Duration :	120
Show Attended Group? :	No
Edit Attended Group? :	No
Break time :	0
Group Marks :	160

Language Proficiency

Section Id :	66862213
Section Number :	1
Section type :	Online
Mandatory or Optional :	Mandatory
Number of Questions :	12
Number of Questions to be attempted :	12
Section Marks :	40
Section Negative Marks :	0.5
Maximum Instruction Time :	0
Sub-Section Number :	1
Sub-Section Id :	66862225
Question Shuffling Allowed :	No

Question Id : 668622329 Question Type : COMPREHENSION Sub Question Shuffling Allowed : No Group Comprehension Questions : No Question Pattern Type : NonMatrix

Question Numbers : (1 to 5)

Question Label : Comprehension

Read the passage carefully and answer the questions that follow choosing the most appropriate alternatives.

Teacher Education is truly vital in creating a team of teachers that will shape the next generations. The teaching profession, like all high level service professions such as medicine and law where people's lives are truly at stake and lie in the hands of practitioners, should have the highest standard of education and training. Teacher preparation is an activity that requires multidisciplinary perspectives and knowledge, the formation of dispositions and values, and the development of practice under the best mentors. Teachers must be grounded in Indian values, ethos, knowledge and traditions, while also being well-versed in the latest advances in education and pedagogy. Heartbreakingly, the Teacher Education Sector has been beleaguered with mediocrity as well as a place of rampant corruption due to commercialization. Most institutions today providing teacher education offer only a single narrow programme being stand-alone institutes without multidisciplinary perspectives and where there is a general lack of commitment to the need of rigour and quality in teacher preparation.

Sub questions

Question Number : 1 Question Id : 668622330 Question Type : MCQ Option Shuffling : No Negative Marks Display Text : 1/4

Correct Marks : 2 Wrong Marks : 0.5

Which of the following is the long term goal of Teacher Education?

1. Empowering teachers with professional ethics.
2. Updating teachers about the latest advances in education.
3. Empowering teachers to prepare learners to face future challenges.
4. Providing teachers sound knowledge of values and traditions.

Question Number : 2 Question Id : 668622331 Question Type : MCQ Option Shuffling : No Negative Marks Display Text : 1/4

Correct Marks : 2 Wrong Marks : 0.5

What, according to the passage, is the most significant reason for poor performance of the Teacher Education Sector?

1. Lack of commitment
2. Business-like approach
3. Corrupt practices
4. A single narrow programme

Question Number : 3 Question Id : 668622332 Question Type : MCQ Option Shuffling : No Negative Marks Display Text : 1/4

Correct Marks : 2 Wrong Marks : 0.5

What is the suggestion in the passage for improving the practical skills of teachers?

1. Proper training under the experienced teachers
2. Robust teacher education system
3. Multi-disciplinary perspectives
4. Being well-versed in the latest advances in education

Question Number : 4 Question Id : 668622333 Question Type : MCQ Option Shuffling : No Negative Marks Display Text : 1/4

Correct Marks : 2 Wrong Marks : 0.5

Which of the following is not mentioned in the passage?

1. Teacher education is significant for shaping the future generations.
2. Teacher education should provide the highest standard of training.
3. Good grounding in advanced pedagogy.
4. Teacher education should admit meritorious candidates.

Question Number : 5 Question Id : 668622334 Question Type : MCQ Option Shuffling : No Negative Marks Display Text : 1/4

Correct Marks : 2 Wrong Marks : 0.5

What is suggested in the passage to improve single narrow programme?

1. Quality teacher preparation programme.
2. Introducing multidisciplinary programmes.
3. Introducing a programme on Indian values and traditions.
4. Introducing latest advances in education and pedagogy.

Question Id : 668622329 Question Type : COMPREHENSION Sub Question Shuffling Allowed : No Group Comprehension Questions : No Question Pattern Type : NonMatrix

Question Numbers : (1 to 5)

Question Label : Comprehension

Read the passage carefully and answer the questions that follow choosing the most appropriate alternatives.

Teacher Education is truly vital in creating a team of teachers that will shape the next generations. The teaching profession, like all high level service professions such as medicine and law where people's lives are truly at stake and lie in the hands of practitioners, should have the highest standard of education and training. Teacher preparation is an activity that requires multidisciplinary perspectives and knowledge, the formation of dispositions and values, and the development of practice under the best mentors. Teachers must be grounded in Indian values, ethos, knowledge and traditions, while also being well-versed in the latest advances in education and pedagogy. Heartbreakingly, the Teacher Education Sector has been beleaguered with mediocrity as well as a place of rampant corruption due to commercialization. Most institutions today providing teacher education offer only a single narrow programme being stand-alone institutes without multidisciplinary perspectives and where there is a general lack of commitment to the need of rigour and quality in teacher preparation.

Sub questions

Question Number : 1 Question Id : 668622330 Question Type : MCQ Option Shuffling : No Negative Marks Display Text : 1/4

Correct Marks : 2 Wrong Marks : 0.5

Which of the following is the long term goal of Teacher Education?

1. Empowering teachers with professional ethics.
2. Updating teachers about the latest advances in education.
3. Empowering teachers to prepare learners to face future challenges.
4. Providing teachers sound knowledge of values and traditions.

Question Number : 2 Question Id : 668622331 Question Type : MCQ Option Shuffling : No Negative Marks Display Text : 1/4

Correct Marks : 2 Wrong Marks : 0.5

What, according to the passage, is the most significant reason for poor performance of the Teacher Education Sector?

1. Lack of commitment
2. Business-like approach
3. Corrupt practices
4. A single narrow programme

Question Number : 3 Question Id : 668622332 Question Type : MCQ Option Shuffling : No Negative Marks Display Text : 1/4

Correct Marks : 2 Wrong Marks : 0.5

What is the suggestion in the passage for improving the practical skills of teachers?

1. Proper training under the experienced teachers
2. Robust teacher education system
3. Multi-disciplinary perspectives
4. Being well-versed in the latest advances in education

Question Number : 4 Question Id : 668622333 Question Type : MCQ Option Shuffling : No Negative Marks Display Text : 1/4

Correct Marks : 2 Wrong Marks : 0.5

Which of the following is not mentioned in the passage?

1. Teacher education is significant for shaping the future generations.
2. Teacher education should provide the highest standard of training.
3. Good grounding in advanced pedagogy.
4. Teacher education should admit meritorious candidates.

Question Number : 5 Question Id : 668622334 Question Type : MCQ Option Shuffling : No Negative Marks Display Text : 1/4

Correct Marks : 2 Wrong Marks : 0.5

What is suggested in the passage to improve single narrow programme?

1. Quality teacher preparation programme.
2. Introducing multidisciplinary programmes.
3. Introducing a programme on Indian values and traditions.
4. Introducing latest advances in education and pedagogy.

Sub-Section Id :

66862226

Question Shuffling Allowed :

Yes

Question Number : 6 Question Id : 668622335 Question Type : MCQ Option Shuffling : No Negative Marks Display Text : 1/4

Correct Marks : 2 Wrong Marks : 0.5

Which part of the following sentence contains an error?

He said that he will come to my house after a fortnight.

1

2

3

4

1. 1

2. 2

3. 3

4. 4

Question Number : 6 Question Id : 668622335 Question Type : MCQ Option Shuffling : No Negative
Marks Display Text : 1/4
Correct Marks : 2 Wrong Marks : 0.5

Which part of the following sentence contains an error?

He said that he will come to my house after a fortnight.

1

2

3

4

1. 1

2. 2

3. 3

4. 4

Question Number : 7 Question Id : 668622336 Question Type : MCQ Option Shuffling : No Negative
Marks Display Text : 1/4
Correct Marks : 2 Wrong Marks : 0.5

What is the verb form of the word POVERTY?

1. Impoverish

2. Impovertise

3. Povertize

4. Empovertise

Question Number : 7 Question Id : 668622336 Question Type : MCQ Option Shuffling : No Negative Marks Display Text : 1/4

Correct Marks : 2 Wrong Marks : 0.5

What is the verb form of the word POVERTY?

1. Impoverish
2. Impovertise
3. Povertize
4. Empovertise

Question Number : 8 Question Id : 668622337 Question Type : MCQ Option Shuffling : No Negative Marks Display Text : 1/4

Correct Marks : 2 Wrong Marks : 0.5

Fill in the blank with the correct option.

There was none but an old widow to _____ the child.

1. look out
2. look over
3. look up
4. look after

Question Number : 8 Question Id : 668622337 Question Type : MCQ Option Shuffling : No Negative Marks Display Text : 1/4
Correct Marks : 2 Wrong Marks : 0.5

Fill in the blank with the correct option.

There was none but an old widow to _____ the child.

1. look out
2. look over
3. look up
4. look after

Question Number : 9 Question Id : 668622338 Question Type : MCQ Option Shuffling : No Negative Marks Display Text : 1/4
Correct Marks : 2 Wrong Marks : 0.5

Keep quiet in the class.

The above sentence is an example of an _____ sentence.

1. imperative
2. optative
3. assertive
4. exclamatory

Question Number : 9 Question Id : 668622338 Question Type : MCQ Option Shuffling : No Negative Marks Display Text : 1/4
Correct Marks : 2 Wrong Marks : 0.5

Keep quiet in the class.

The above sentence is an example of an _____ sentence.

1. imperative
2. optative
3. assertive
4. exclamatory

Question Number : 10 Question Id : 668622339 Question Type : MCQ Option Shuffling : No Negative Marks Display Text : 1/4
Correct Marks : 2 Wrong Marks : 0.5

Identify the correct sentence:

1. Had I known about the meeting, I would have attended it.
2. If I know about the meeting, I would have attended it.
3. Had I knew about the meeting, I would attend it.
4. I would attend if I had known about the meeting.

Question Number : 10 Question Id : 668622339 Question Type : MCQ Option Shuffling : No Negative Marks Display Text : 1/4

Correct Marks : 2 Wrong Marks : 0.5

Identify the correct sentence:

1. Had I known about the meeting, I would have attended it.
2. If I know about the meeting, I would have attended it.
3. Had I knew about the meeting, I would attend it.
4. I would attend if I had known about the meeting.

Sub-Section Number :

3

Sub-Section Id :

66862227

Question Shuffling Allowed :

No

Question Id : 668622340 Question Type : COMPREHENSION Sub Question Shuffling Allowed : No Group Comprehension Questions : No Question Pattern Type : NonMatrix

Question Numbers : (11 to 15)

Question Label : Comprehension

Read the passage carefully and answer the questions that follow choosing the most appropriate alternatives.

In today's hyper-connected world, digital technologies promise unprecedented access to information and global communication. Yet, scholars argue that this very connectivity has produced unintended consequences. While individuals can now engage with people across continents in real time, they often experience a decline in meaningful local relationships and community bonds. Digital spaces tend to create echo chambers, reinforcing existing beliefs rather than encouraging open dialogue. Moreover, constant connectivity has blurred the boundaries between work and personal life, leading to higher levels of stress and burnout. Despite these concerns, proponents of digital culture highlight its role in democratizing knowledge, supporting activism, and giving marginalized voices a platform.

Sub questions

Question Number : 11 Question Id : 668622341 Question Type : MCQ Option Shuffling : No Negative Marks Display Text : 1/4

Correct Marks : 2 Wrong Marks : 0.5

What is the main paradox discussed in the passage?

1. Digital tools increase literacy but reduce cultural values.
2. Digital connectivity brings people together but weakens local relationships.
3. Social media increases intelligence but harms social skills.
4. Global communication eliminates the need for local governance.

Question Number : 12 Question Id : 668622342 Question Type : MCQ Option Shuffling : No Negative Marks Display Text : 1/4

Correct Marks : 2 Wrong Marks : 0.5

According to the passage, what is one psychological effect of constant digital connectivity?

1. Enhanced emotional intelligence
2. Increased attention span
3. Elevated stress and burnout
4. Improved face-to-face communication

Question Number : 13 Question Id : 668622343 Question Type : MCQ Option Shuffling : No Negative Marks Display Text : 1/4

Correct Marks : 2 Wrong Marks : 0.5

What concern do scholars have about online interactions, as stated in the passage?

1. They are too slow and inefficient.
2. They create opportunities for multilingual learning.
3. They often reinforce existing beliefs.
4. They replace traditional media entirely.

Question Number : 14 Question Id : 668622344 Question Type : MCQ Option Shuffling : No Negative Marks Display Text : 1/4

Correct Marks : 2 Wrong Marks : 0.5

Which of the following is NOT mentioned as a benefit of digital culture?

1. Spreading misinformation
2. Supporting activism
3. Giving marginalized voices a platform
4. Democratizing knowledge

Question Number : 15 Question Id : 668622345 Question Type : MCQ Option Shuffling : No Negative Marks Display Text : 1/4

Correct Marks : 2 Wrong Marks : 0.5

What tone does the author adopt in the passage toward digital connectivity?

1. Completely dismissive
2. Uncritically enthusiastic
3. Balanced and analytical
4. Humorous and sarcastic

Question Id : 668622340 Question Type : COMPREHENSION Sub Question Shuffling Allowed : No Group Comprehension Questions : No Question Pattern Type : NonMatrix

Question Numbers : (11 to 15)

Question Label : Comprehension

Read the passage carefully and answer the questions that follow choosing the most appropriate alternatives.

In today's hyper-connected world, digital technologies promise unprecedented access to information and global communication. Yet, scholars argue that this very connectivity has produced unintended consequences. While individuals can now engage with people across continents in real time, they often experience a decline in meaningful local relationships and community bonds. Digital spaces tend to create echo chambers, reinforcing existing beliefs rather than encouraging open dialogue. Moreover, constant connectivity has blurred the boundaries between work and personal life, leading to higher levels of stress and burnout. Despite these concerns, proponents of digital culture highlight its role in democratizing knowledge, supporting activism, and giving marginalized voices a platform.

Sub questions

Question Number : 11 Question Id : 668622341 Question Type : MCQ Option Shuffling : No Negative Marks Display Text : 1/4

Correct Marks : 2 Wrong Marks : 0.5

What is the main paradox discussed in the passage?

1. Digital tools increase literacy but reduce cultural values.
2. Digital connectivity brings people together but weakens local relationships.
3. Social media increases intelligence but harms social skills.
4. Global communication eliminates the need for local governance.

Question Number : 12 Question Id : 668622342 Question Type : MCQ Option Shuffling : No Negative Marks Display Text : 1/4

Correct Marks : 2 Wrong Marks : 0.5

According to the passage, what is one psychological effect of constant digital connectivity?

1. Enhanced emotional intelligence
2. Increased attention span
3. Elevated stress and burnout
4. Improved face-to-face communication

Question Number : 13 Question Id : 668622343 Question Type : MCQ Option Shuffling : No Negative Marks Display Text : 1/4

Correct Marks : 2 Wrong Marks : 0.5

What concern do scholars have about online interactions, as stated in the passage?

1. They are too slow and inefficient.
2. They create opportunities for multilingual learning.
3. They often reinforce existing beliefs.
4. They replace traditional media entirely.

Question Number : 14 Question Id : 668622344 Question Type : MCQ Option Shuffling : No Negative Marks Display Text : 1/4

Correct Marks : 2 Wrong Marks : 0.5

Which of the following is NOT mentioned as a benefit of digital culture?

1. Spreading misinformation
2. Supporting activism
3. Giving marginalized voices a platform
4. Democratizing knowledge

Question Number : 15 Question Id : 668622345 Question Type : MCQ Option Shuffling : No Negative Marks Display Text : 1/4

Correct Marks : 2 Wrong Marks : 0.5

What tone does the author adopt in the passage toward digital connectivity?

1. Completely dismissive
2. Uncritically enthusiastic
3. Balanced and analytical
4. Humorous and sarcastic

Sub-Section Number : 4
Sub-Section Id : 66862228
Question Shuffling Allowed : Yes

**Question Number : 16 Question Id : 668622346 Question Type : MCQ Option Shuffling : No Negative
Marks Display Text : 1/4
Correct Marks : 2 Wrong Marks : 0.5**

Which of the following is opposite in meaning to the word “ambiguous”?

1. Unclear
2. Comprehensible
3. Vague
4. Equivocal

Question Number : 16 Question Id : 668622346 Question Type : MCQ Option Shuffling : No Negative Marks Display Text : 1/4

Correct Marks : 2 Wrong Marks : 0.5

Which of the following is opposite in meaning to the word “ambiguous”?

1. Unclear
2. Comprehensible
3. Vague
4. Equivocal

Question Number : 17 Question Id : 668622347 Question Type : MCQ Option Shuffling : No Negative Marks Display Text : 1/4

Correct Marks : 2 Wrong Marks : 0.5

Choose the most appropriate form of the adjective to complete the sentence. “This is the _____ (complicate) equation I have ever seen.”

1. most complicated
2. more complicated
3. complicated
4. complicating

Question Number : 17 Question Id : 668622347 Question Type : MCQ Option Shuffling : No Negative Marks Display Text : 1/4

Correct Marks : 2 Wrong Marks : 0.5

Choose the most appropriate form of the adjective to complete the sentence. “This is the _____ (complicate) equation I have ever seen.”

1. most complicated
2. more complicated
3. complicated
4. complicating

Question Number : 18 Question Id : 668622348 Question Type : MCQ Option Shuffling : No Negative Marks Display Text : 1/4

Correct Marks : 2 Wrong Marks : 0.5

Choose the correct meaning of the idiom “bite the bullet”.

1. give up
2. endure a painful situation bravely
3. postpone
4. avoid responsibility

Question Number : 18 Question Id : 668622348 Question Type : MCQ Option Shuffling : No Negative Marks Display Text : 1/4

Correct Marks : 2 Wrong Marks : 0.5

Choose the correct meaning of the idiom “bite the bullet”.

1. give up
2. endure a painful situation bravely
3. postpone
4. avoid responsibility

Question Number : 19 Question Id : 668622349 Question Type : MCQ Option Shuffling : No Negative Marks Display Text : 1/4

Correct Marks : 2 Wrong Marks : 0.5

Choose the most appropriate preposition for the blank space. “The study aims to shed light _____ the causes of climate change.”

1. in
2. on
3. through
4. to

Question Number : 19 Question Id : 668622349 Question Type : MCQ Option Shuffling : No Negative Marks Display Text : 1/4

Correct Marks : 2 Wrong Marks : 0.5

Choose the most appropriate preposition for the blank space. “The study aims to shed light _____ the causes of climate change.”

1. in
2. on
3. through
4. to

Question Number : 20 Question Id : 668622350 Question Type : MCQ Option Shuffling : No Negative Marks Display Text : 1/4

Correct Marks : 2 Wrong Marks : 0.5

Which of the following is correctly spelt?

1. Complaeant
2. Complasant
3. Complucent
4. Complacent

Question Number : 20 Question Id : 668622350 Question Type : MCQ Option Shuffling : No Negative Marks Display Text : 1/4

Correct Marks : 2 Wrong Marks : 0.5

Which of the following is correctly spelt?

1. Complaeant
2. Complasant
3. Complucent
4. Complacent

Teaching Aptitude

Section Id :	66862214
Section Number :	2
Section type :	Online
Mandatory or Optional :	Mandatory
Number of Questions :	30
Number of Questions to be attempted :	30
Section Marks :	60
Section Negative Marks :	0.5
Maximum Instruction Time :	0
Sub-Section Number :	1
Sub-Section Id :	66862229
Question Shuffling Allowed :	Yes

Question Number : 21 Question Id : 668622351 Question Type : MCQ Option Shuffling : No Negative Marks Display Text : 1/4

Correct Marks : 2 Wrong Marks : 0.5

The term 'equitable quality education' is based on the principle of:

1. equal distribution
2. social justice
3. free distribution
4. collaboration

Question Number : 21 Question Id : 668622351 Question Type : MCQ Option Shuffling : No Negative Marks Display Text : 1/4

Correct Marks : 2 Wrong Marks : 0.5

'समतापूर्ण गुणात्मक शिक्षा' किस सिद्धान्त पर आधारित है?

1. समान वितरण
2. सामाजिक न्याय
3. मुक्त वितरण
4. सहयोग

Question Number : 22 Question Id : 668622352 Question Type : MCQ Option Shuffling : No Negative Marks Display Text : 1/4

Correct Marks : 2 Wrong Marks : 0.5

The key purpose of restructuring secondary stage of education in NEP 2020 is:

1. flexibility in students' choice of subjects
2. reduce expenditure on salary of teachers
3. merge Secondary and Higher Secondary stages
4. greater focus on language subjects

Question Number : 22 Question Id : 668622352 Question Type : MCQ Option Shuffling : No Negative Marks Display Text : 1/4

Correct Marks : 2 Wrong Marks : 0.5

राष्ट्रीय शिक्षा नीति 2020 में माध्यमिक शिक्षा के पुनर्गठन का मुख्य उद्देश्य है :

1. विद्यार्थियों के लिए विषय-चयन में नमनीयता
2. शिक्षकों के वेतन पर खर्च को कम करना
3. माध्यमिक और उच्च माध्यमिक स्तर को आपस में मिला देना
4. भाषायी विषयों पर अधिक ध्यान देना

Question Number : 23 Question Id : 668622353 Question Type : MCQ Option Shuffling : No Negative Marks Display Text : 1/4

Correct Marks : 2 Wrong Marks : 0.5

Which of the following best illustrates the concept of learning?

1. Social adjustment
2. Emotional adjustment
3. Preparation for a job
4. Modification of behaviour

Question Number : 23 Question Id : 668622353 Question Type : MCQ Option Shuffling : No Negative Marks Display Text : 1/4

Correct Marks : 2 Wrong Marks : 0.5

इनमें से कौन-सा अधिगम अवधारणा को सर्वाधिक प्रदर्शित करता है?

1. सामाजिक समायोजन
2. सांवेगिक समायोजन
3. नौकरी की तैयारी
4. व्यवहार में सुधार

Question Number : 24 Question Id : 668622354 Question Type : MCQ Option Shuffling : No Negative Marks Display Text : 1/4

Correct Marks : 2 Wrong Marks : 0.5

Which of the following is the reason behind differentiated instruction?

1. Every student is unique
2. To check the practice of copying
3. Students do not like to learn together
4. Parents want that their children should be dealt with separately

Question Number : 24 Question Id : 668622354 Question Type : MCQ Option Shuffling : No Negative Marks Display Text : 1/4

Correct Marks : 2 Wrong Marks : 0.5

विभेदित निर्देश के पीछे कौन-सा कारण निहित है?

1. प्रत्येक विद्यार्थी की अपनी विशिष्टताएँ हैं
2. नकल की आदत की रोक-थाम
3. विद्यार्थी मिलकर पढ़ना नहीं चाहते
4. माता-पिता चाहते हैं कि उनके बच्चे अलग से पढ़ें

Question Number : 25 Question Id : 668622355 Question Type : MCQ Option Shuffling : No Negative Marks Display Text : 1/4

Correct Marks : 2 Wrong Marks : 0.5

Which of the following instructional strategies is learner-centric?

1. Lecture
2. Project-based learning
3. Team teaching
4. Demonstration

Question Number : 25 Question Id : 668622355 Question Type : MCQ Option Shuffling : No Negative Marks Display Text : 1/4

Correct Marks : 2 Wrong Marks : 0.5

निम्न में से कौन-सी निर्देशात्मक पद्धति विद्यार्थी केन्द्रित है?

1. व्याख्यान
2. परियोजना आधारित अधिगम
3. टोलीगत शिक्षण
4. प्रदर्शन

Question Number : 26 Question Id : 668622356 Question Type : MCQ Option Shuffling : No Negative Marks Display Text : 1/4

Correct Marks : 2 Wrong Marks : 0.5

Which of the following best reflects the concept of 'National System of Education'?

1. Uniform and inflexible system of education for all across the country
2. Major emphasis on vocational education for the marginalized learners
3. Focus of education system on the needs of learners in different regions
4. Maximum focus of education on integration of traditional knowledge system in curriculum

Question Number : 26 Question Id : 668622356 Question Type : MCQ Option Shuffling : No Negative Marks Display Text : 1/4

Correct Marks : 2 Wrong Marks : 0.5

'राष्ट्रीय शिक्षा व्यवस्था' की अवधारणा को इनमें से कौन-सा सर्वाधिक दर्शाता है?

1. देश में सर्वत्र शिक्षा की एकरूपता और अनमनीय व्यवस्था
2. समाज में हाशिये पर रहने वाले शिक्षार्थियों की व्यावसायिक शिक्षा पर अधिक ध्यान
3. विभिन्न क्षेत्रों के शिक्षार्थियों की आवश्यकताओं पर शिक्षा व्यवस्था का समुचित ध्यान
4. पाठ्यचर्या में पारंपरिक ज्ञान-व्यवस्था के एकीकरण पर सर्वाधिक ध्यान

Question Number : 27 Question Id : 668622357 Question Type : MCQ Option Shuffling : No Negative Marks Display Text : 1/4

Correct Marks : 2 Wrong Marks : 0.5

Financial assistance to the socio-economically disadvantaged learners is based on the concept of:

1. impartiality
2. equality
3. democracy
4. equity

Question Number : 27 Question Id : 668622357 Question Type : MCQ Option Shuffling : No Negative Marks Display Text : 1/4

Correct Marks : 2 Wrong Marks : 0.5

सामाजिक आर्थिक रूप से कमजोर शिक्षार्थियों को दी जाने वाली आर्थिक सहायता किस अवधारणा पर आधारित है?

1. निष्पक्षता
2. समानता
3. गणतन्त्र
4. हिस्सेदारी

Question Number : 28 Question Id : 668622358 Question Type : MCQ Option Shuffling : No Negative Marks Display Text : 1/4

Correct Marks : 2 Wrong Marks : 0.5

As per the recommendation of NEP 2020, the teachers at the foundational stage should belong to the local community. What is the main reason underlying this recommendation?

1. The teacher can be sincere and punctual in attending school
2. A local teacher would love her students more than an outsider
3. The students would not face problems in understanding language of teachers
4. Local teachers will not demand for her transfer to some other schools

Question Number : 28 Question Id : 668622358 Question Type : MCQ Option Shuffling : No Negative Marks Display Text : 1/4

Correct Marks : 2 Wrong Marks : 0.5

राष्ट्रीय शिक्षा नीति 2020 की संस्तुति के अनुसार बुनियादी स्तर पर चुने गए शिक्षक स्थानीय समुदाय से होने चाहिए। इस संस्तुति के पीछे निहित कारण क्या है?

1. शिक्षक नियमित रूप से समय पर विद्यालय में उपस्थित हो सकेंगे
2. बाहरी व्यक्ति की तुलना में स्थानीय शिक्षक अपने विद्यार्थी से अधिक स्नेह करेंगे
3. विद्यार्थियों को शिक्षक की भाषा समझने में कोई कठिनाई नहीं होगी
4. स्थानीय शिक्षक दूसरे विद्यालयों में अन्यत्र तबादले पर जाना नहीं चाहेंगे

Question Number : 29 Question Id : 668622359 Question Type : MCQ Option Shuffling : No Negative Marks Display Text : 1/4

Correct Marks : 2 Wrong Marks : 0.5

Which of the following is true about the current Annual Board Examination system?

1. It promotes memorization
2. It does not promote habit for regular study
3. It promotes the culture of private coaching
4. All the above

Question Number : 29 Question Id : 668622359 Question Type : MCQ Option Shuffling : No Negative Marks Display Text : 1/4

Correct Marks : 2 Wrong Marks : 0.5

सांप्रतिक वार्षिक बोर्ड परीक्षा-व्यवस्था के संबंध में निम्न में से कौन-सा सही है?

1. रटकर याद रखने को बढ़ावा दिया जाता है
2. नियमित अध्ययन के अभ्यास को बढ़ावा नहीं दिया जाता
3. घरेलू कोचिंग संस्कृति को बढ़ावा दिया जाता है
4. उपर्युक्त सभी

Question Number : 30 Question Id : 668622360 Question Type : MCQ Option Shuffling : No Negative Marks Display Text : 1/4

Correct Marks : 2 Wrong Marks : 0.5

Which is the correct order of teaching-learning process?

- A. Introducing the lesson
- B. Formulating Objectives
- C. Presentation of new materials
- D. Preparation of Teaching Learning Materials
- E. Evaluation

- 1. A, B, C, D, E
- 2. B, D, A, C, E
- 3. E, D, C, B, A
- 4. C, A, B, E, D

Question Number : 30 Question Id : 668622360 Question Type : MCQ Option Shuffling : No Negative Marks Display Text : 1/4

Correct Marks : 2 Wrong Marks : 0.5

शिक्षण-अधिगम प्रक्रिया का सही क्रम क्या है?

- A. पाठ की प्रस्तावना
 - B. उद्देश्यों का निर्धारण
 - C. नवीन सामग्री की प्रदर्शन
 - D. शिक्षण-अधिगम सामग्री की प्रस्तुति
 - E. मूल्यांकन
1. ABCDE
 2. BDACE
 3. EDCBA
 4. CABED

Question Number : 31 Question Id : 668622361 Question Type : MCQ Option Shuffling : No Negative Marks Display Text : 1/4

Correct Marks : 2 Wrong Marks : 0.5

Role play is a useful method mostly for teaching of:

1. Language
2. Science
3. Mathematics
4. History

Question Number : 31 Question Id : 668622361 Question Type : MCQ Option Shuffling : No Negative Marks Display Text : 1/4

Correct Marks : 2 Wrong Marks : 0.5

पात्र-अभिनय विधि किसके शिक्षण के लिए अधिक उपयोगी है?

1. भाषा
2. विज्ञान
3. गणित
4. इतिहास

Question Number : 32 Question Id : 668622362 Question Type : MCQ Option Shuffling : No Negative Marks Display Text : 1/4

Correct Marks : 2 Wrong Marks : 0.5

Which of the following is the key advantage of team teaching (teaching by more than one teacher in a class)?

1. The teachers learn from each other in the class
2. The students learn from the strengths of each teacher
3. The work of teachers is shared equally
4. The teachers come to the class well-prepared

Question Number : 32 Question Id : 668622362 Question Type : MCQ Option Shuffling : No Negative Marks Display Text : 1/4

Correct Marks : 2 Wrong Marks : 0.5

टीम-शिक्षण (एक ही कक्षा में एकाधिक शिक्षकों द्वारा शिक्षादान) का प्रमुख लाभ क्या है ?

1. कक्षा में शिक्षक एक-दूसरे से सीखते हैं
2. विद्यार्थी प्रत्येक शिक्षक के सामर्थ्य से सीखते हैं
3. शिक्षकों का कार्य समान रूप से बंट जाता है
4. कक्षा में शिक्षक पूरी तैयारी के साथ आते हैं

Question Number : 33 Question Id : 668622363 Question Type : MCQ Option Shuffling : No Negative Marks Display Text : 1/4

Correct Marks : 2 Wrong Marks : 0.5

The best use of blackboard is:

1. to write the key and notable points
2. to attract the attention of students
3. to put the contents in black and white
4. to help learners memorize the contents

Question Number : 33 Question Id : 668622363 Question Type : MCQ Option Shuffling : No Negative Marks Display Text : 1/4

Correct Marks : 2 Wrong Marks : 0.5

श्याम-पट्ट का सर्वोत्तम उपयोग किसमें है?

1. संग्रहणीय मुख्य बिन्दुओं को लिखने में
2. विद्यार्थियों का ध्यान आकर्षित करने में
3. संदर्भ को लिखने में
4. संदर्भ को याद रखने में विद्यार्थियों की सहायता करने में

Question Number : 34 Question Id : 668622364 Question Type : MCQ Option Shuffling : No Negative Marks Display Text : 1/4

Correct Marks : 2 Wrong Marks : 0.5

Which of the following is the main purpose of basic education of Mahatma Gandhi?

1. Universalization of primary education
2. Making education compulsory for all
3. Promoting learning through crafts
4. Providing vocational education to all

Question Number : 34 Question Id : 668622364 Question Type : MCQ Option Shuffling : No Negative Marks Display Text : 1/4

Correct Marks : 2 Wrong Marks : 0.5

महात्मा गांधी की मौलिक शिक्षा का मुख्य उद्देश्य क्या है?

1. प्राथमिक शिक्षा का सार्वभौमीकरण
2. सभी के लिए शिक्षा को अनिवार्य करना
3. हस्तकला के माध्यम से अधिगम को बढ़ावा देना
4. सभी के लिए व्यावसायिक शिक्षा उपलब्ध करना

Question Number : 35 Question Id : 668622365 Question Type : MCQ Option Shuffling : No Negative Marks Display Text : 1/4

Correct Marks : 2 Wrong Marks : 0.5

Which of the following is not a component of teaching plan?

1. Classroom arrangement
2. Methods of assessment
3. Content and materials
4. Summative evaluation

Question Number : 35 Question Id : 668622365 Question Type : MCQ Option Shuffling : No Negative Marks Display Text : 1/4

Correct Marks : 2 Wrong Marks : 0.5

इनमें से कौन-सा शिक्षण-योजना का अवयव नहीं है?

1. कक्षा-व्यवस्था
2. आकलन-विधियाँ
3. पाठ्य-सामग्री और उपकरण
4. योगात्मक मूल्यांकन

Question Number : 36 Question Id : 668622366 Question Type : MCQ Option Shuffling : No Negative Marks Display Text : 1/4

Correct Marks : 2 Wrong Marks : 0.5

Which of the following is not an element of effective pedagogy?

1. Giving meaningful and immediate feedback to students
2. Providing opportunities for collaborative work
3. Building positive teacher-student relationship
4. Preparing students for Board Examination

Question Number : 36 Question Id : 668622366 Question Type : MCQ Option Shuffling : No Negative Marks Display Text : 1/4

Correct Marks : 2 Wrong Marks : 0.5

निम्न में से कौन-सा प्रभावी शिक्षा-शास्त्र का तत्व नहीं है?

1. विद्यार्थियों को तत्काल एवं उपयोगी प्रतिपुष्टि प्रदान करना
2. सहयोगात्मक कार्य के लिए अवसर प्रदान करना
3. सकारात्मक शिक्षक-विद्यार्थी संबंध का निर्माण
4. विद्यार्थियों को बोर्ड परक्षा के लिए तैयार करना

Question Number : 37 Question Id : 668622367 Question Type : MCQ Option Shuffling : No Negative Marks Display Text : 1/4

Correct Marks : 2 Wrong Marks : 0.5

What is the advantage of 'grade' system over 'marks' system?

1. It is easier than marks system
2. It eliminates differentiation among students
3. It enhances the quality of assessment
4. It promotes transparency in assessment

Question Number : 37 Question Id : 668622367 Question Type : MCQ Option Shuffling : No Negative Marks Display Text : 1/4

Correct Marks : 2 Wrong Marks : 0.5

अंक व्यवस्था की जगह ग्रेड-व्यवस्था लागू करने की उपयोगिता क्या है?

1. यह अंक-व्यवस्था से अधिक सरल है
2. यह विद्यार्थियों में भेद-भाव को दूर करती है
3. आकलन की गुणवत्ता में वृद्धि करती है
4. यह आकलन की पारदर्शिता बढ़ाती है

Question Number : 38 Question Id : 668622368 Question Type : MCQ Option Shuffling : No Negative Marks Display Text : 1/4

Correct Marks : 2 Wrong Marks : 0.5

Which of the following does not come under experiential learning pedagogy?

1. Art-integrated pedagogy
2. Sports-integrated pedagogy
3. Story telling-based pedagogy
4. Discussion-based pedagogy

Question Number : 38 Question Id : 668622368 Question Type : MCQ Option Shuffling : No Negative Marks Display Text : 1/4

Correct Marks : 2 Wrong Marks : 0.5

इनमें से कौन-सा शिक्षा-शास्त्र के अनुभवजन्य अधिगम के अंतर्गत नहीं आता ?

1. कला आधारित शिक्षण
2. खेलकूद आधारित शिक्षण
3. कथा-वाचन आधारित शिक्षण
4. वार्त्तालाप आधारित शिक्षण

Question Number : 39 Question Id : 668622369 Question Type : MCQ Option Shuffling : No Negative Marks Display Text : 1/4

Correct Marks : 2 Wrong Marks : 0.5

Which of the following is not a characteristic of an enabling learning environment?

1. Violence-free
2. Caring
3. Competition
4. Inclusive

Question Number : 39 Question Id : 668622369 Question Type : MCQ Option Shuffling : No Negative Marks Display Text : 1/4

Correct Marks : 2 Wrong Marks : 0.5

निम्न में से कौन-सा सक्षम अधिगम वातावरण का लक्षण नहीं है?

1. हिंसा-मुक्त
2. देख-भाल करना
3. प्रतियोगिता
4. समवेशी

Question Number : 40 Question Id : 668622370 Question Type : MCQ Option Shuffling : No Negative Marks Display Text : 1/4

Correct Marks : 2 Wrong Marks : 0.5

Which of the following is the correct order in achieving the objectives of education?

- A. Competencies
- B. Curricular goals
- C. Aims of Education
- D. Learning outcomes

- 1. C, B, A, D
- 2. A, B, C, D
- 3. D, C, B, A
- 4. B, D, A, C

Question Number : 40 Question Id : 668622370 Question Type : MCQ Option Shuffling : No Negative Marks Display Text : 1/4

Correct Marks : 2 Wrong Marks : 0.5

शिक्षा के उद्देश्यों को प्राप्त करने के लिए निम्न में से कौन-सा क्रम सही है?

- A. दक्षता
 - B. पाठ्यचर्या के लक्ष्य
 - C. शिक्षा के उद्देश्य
 - D. अधिगम परिणाम
1. C, B, A, D
 2. A, B, C, D
 3. D, C, B, A
 4. B, D, A, C

Question Number : 41 Question Id : 668622371 Question Type : MCQ Option Shuffling : No Negative Marks Display Text : 1/4

Correct Marks : 2 Wrong Marks : 0.5

Which of the following is the correct order of the stages of school education proposed in the NEP 2020?

- A. Middle
- B. Foundational
- C. Secondary
- D. Preparatory

1. A, B, C, D
2. B, D, A, C
3. D, C, B, A
4. C, A, D, B

Question Number : 41 Question Id : 668622371 Question Type : MCQ Option Shuffling : No Negative Marks Display Text : 1/4

Correct Marks : 2 Wrong Marks : 0.5

राष्ट्रीय शिक्षा नीति 2020 में प्रस्तावित विद्यालयीन शिक्षा के सोपानों का सही क्रम क्या है?

- A. मध्य
- B. बुनियादी
- C. माध्यमिक
- D. प्रारम्भिक

- 1. A, B, C, D
- 2. B, D, A, C
- 3. D, C, B, A
- 4. C, A, D, B

Question Number : 42 Question Id : 668622372 Question Type : MCQ Option Shuffling : No Negative Marks Display Text : 1/4

Correct Marks : 2 Wrong Marks : 0.5

Which of the following is an important sign of motivated teaching?

- 1. Pin-drop silence in classrooms
- 2. Students asking a lot of questions
- 3. Parents sending their children to school regularly
- 4. Students are taking notes

Question Number : 42 Question Id : 668622372 Question Type : MCQ Option Shuffling : No Negative Marks Display Text : 1/4

Correct Marks : 2 Wrong Marks : 0.5

निम्न में से उत्प्रेरित शिक्षण का मुख्य लक्षण कौन-सा है?

1. कक्षा में पूर्ण नीरवता
2. विद्यार्थियों का प्रश्न पूछना
3. माता-पिता का अपने बच्चों को नियमित विद्यालय में भेजना
4. विद्यार्थियों का नोट लिखना

Question Number : 43 Question Id : 668622373 Question Type : MCQ Option Shuffling : No Negative Marks Display Text : 1/4

Correct Marks : 2 Wrong Marks : 0.5

Which of the following is the most effective approach of a teacher to inculcate values in students?

1. Talking about values frequently
2. Practicing values herself
3. Telling stories of great persons
4. Talking about benefits of spirituality

Question Number : 43 Question Id : 668622373 Question Type : MCQ Option Shuffling : No Negative Marks Display Text : 1/4

Correct Marks : 2 Wrong Marks : 0.5

निम्न में से कौन-सा विद्यार्थियों को मूल्यों के प्रति निष्ठावान बनाने का सर्वाधिक प्रभावशाली उपागम है?

1. हमेशा मूल्यों के बारे में चर्चा करना
2. स्वयं मूल्यों का आचरण करना
3. महामानवों की कथाएँ सुनाना
4. आध्यात्मिकता के लाभों की चर्चा करना

Question Number : 44 Question Id : 668622374 Question Type : MCQ Option Shuffling : No Negative Marks Display Text : 1/4

Correct Marks : 2 Wrong Marks : 0.5

A teacher who believes that nurture (not the nature) strongly influences the development of children, will not agree with the importance of:

1. love and care of parents
2. playing with peers
3. genetic factors
4. visit to museum

Question Number : 44 Question Id : 668622374 Question Type : MCQ Option Shuffling : No Negative Marks Display Text : 1/4

Correct Marks : 2 Wrong Marks : 0.5

जो शिक्षक विश्वास करते हैं कि पालन-पोषण बच्चों के विकास को सर्वाधिक प्रभावित करता है, वे निम्न में से किसके महत्व को स्वीकार नहीं करेंगे?

1. माता-पिता का प्यार और यत्न
2. हम-उम्र बच्चों के साथ खेलना
3. आनुवंशिक तत्व
4. संग्रहालयों का परिदर्शन

Question Number : 45 Question Id : 668622375 Question Type : MCQ Option Shuffling : No Negative Marks Display Text : 1/4

Correct Marks : 2 Wrong Marks : 0.5

Assessment of how a school is performing is achieved through:

1. administration
2. supervision
3. inspection
4. direction

Question Number : 45 Question Id : 668622375 Question Type : MCQ Option Shuffling : No Negative Marks Display Text : 1/4

Correct Marks : 2 Wrong Marks : 0.5

किसी विद्यालय के कार्य-निष्पादन के स्तर का आकलन निम्न में से किससे किया जाता है?

1. प्रशासन
2. पर्यवेक्षण
3. परिदर्शन
4. निर्देश

Question Number : 46 Question Id : 668622376 Question Type : MCQ Option Shuffling : No Negative Marks Display Text : 1/4

Correct Marks : 2 Wrong Marks : 0.5

Which of the following acts of a teacher is least likely to promote creative thinking among students?

1. Providing open ended questions
2. Giving projects to work to the students
3. Providing enough time for thinking
4. Expecting perfection from students' work

Question Number : 46 Question Id : 668622376 Question Type : MCQ Option Shuffling : No Negative Marks Display Text : 1/4

Correct Marks : 2 Wrong Marks : 0.5

निम्नलिखित में से शिक्षक की कौन-सी गतिविधि से बच्चों में सृजनात्मक चिंतन का विकास होने की संभावना कम संभावना कम है?

1. दीर्घ उत्तरीय प्रश्न देना
2. विद्यार्थियों को करने के लिए परियोजना कार्य देना
3. चिंतन के लिए पर्याप्त समय देना
4. विद्यार्थियों के कार्य में गुणवत्ता/ स्तरीयता की उम्मीद करना

Question Number : 47 Question Id : 668622377 Question Type : MCQ Option Shuffling : No Negative Marks Display Text : 1/4

Correct Marks : 2 Wrong Marks : 0.5

A student has talent as well as interest in the humanity stream, but her/his parents force her/him to study science. What should be your advice to the student as a teacher?

1. Respect parents' wishes
2. Convince parents about your talent
3. Consult peers in choosing the stream
4. Choose a stream other than humanities and science

Question Number : 47 Question Id : 668622377 Question Type : MCQ Option Shuffling : No Negative Marks Display Text : 1/4

Correct Marks : 2 Wrong Marks : 0.5

एक विद्यार्थी को मानविकी संकाय में दक्षता और रुचि है; पर उसके माता-पिता विज्ञान पढ़ने के लिए उस पर दबाव डाल रहे हैं। शिक्षक के रूप में उस विद्यार्थी को आप क्या सलाह देंगे?

1. माता-पिता की इच्छा का आदर करना
2. विद्यार्थी की दक्षता के बारे में उसके माता-पिता को समझाना
3. संकाय चयन से पहले अपने सहपाठियों की सलाह लेना
4. मानविकी और विज्ञान के बदले कोई अन्य संकाय चुनना

Question Number : 48 Question Id : 668622378 Question Type : MCQ Option Shuffling : No Negative Marks Display Text : 1/4

Correct Marks : 2 Wrong Marks : 0.5

Which of the following statements about development is not correct?

1. Development depends upon maturation and learning
2. There are individual differences in development
3. Development is a purely a cognitive process
4. Development follows a pattern

Question Number : 48 Question Id : 668622378 Question Type : MCQ Option Shuffling : No Negative Marks Display Text : 1/4

Correct Marks : 2 Wrong Marks : 0.5

विकास के संदर्भ में निम्न में से कौन-सा कथन सही नहीं है?

1. विकास परिपक्वता और अधिगम पर निर्भर करता है
2. विकास के संदर्भ में वैयक्तिक भिन्नताएँ पाई जाती हैं
3. विकास पूर्णतः एक संग्यानात्मक प्रक्रिया है
4. विकास की अपनी एक विशेष प्रक्रिया है

Question Number : 49 Question Id : 668622379 Question Type : MCQ Option Shuffling : No Negative Marks Display Text : 1/4

Correct Marks : 2 Wrong Marks : 0.5

Which of the following is not a tool for summative assessment?

1. Assignment
2. Multiple choice questions
3. Focus group discussion
4. Projects

Question Number : 49 Question Id : 668622379 Question Type : MCQ Option Shuffling : No Negative Marks Display Text : 1/4

Correct Marks : 2 Wrong Marks : 0.5

निम्न में से कौन-सा योगात्मक आकलन का साधन नहीं है?

1. सत्रीय कार्य
2. बहु-विकल्पीय प्रश्न
3. दलगत चर्चा पर अधिक ध्यान
4. परियोजना

Question Number : 50 Question Id : 668622380 Question Type : MCQ Option Shuffling : No Negative Marks Display Text : 1/4

Correct Marks : 2 Wrong Marks : 0.5

A student keeps on asking questions and interrupting the flow of teaching. What should the teacher do?

1. Tell him/her to ask all the questions after the class is over
2. Encourage his/her questions but set specific time limits for discussion
3. Ignore the question as it would disturb the flow of teaching
4. Discourage excessive questioning to maintain classroom discipline

Question Number : 50 Question Id : 668622380 Question Type : MCQ Option Shuffling : No Negative Marks Display Text : 1/4

Correct Marks : 2 Wrong Marks : 0.5

एक विद्यार्थी शिक्षण के दौरान बार-बार प्रश्न पूछकर शिक्षण की गति में बाधा डालता है; शिक्षक को क्या करना चाहिए?

1. उसे सारे प्रश्न कक्षा की समाप्ति पर एक साथ पूछने को कहेंगे
2. उसे प्रश्न पूछने के लिए उत्साहित करेंगे, पर उसपर चर्चा के लिए समय-सीमा निर्धारित करेंगे
3. शिक्षण कार्य में बाधा डालने के कारण उसके प्रश्नों को नजर-अंदाज करेंगे
4. कक्षा में अनुशासन बनाए रखने के लिए अत्यधिक प्रश्न पूछने को निरुत्साहित करेंगे

Reasoning Ability

Section Id :	66862215
Section Number :	3
Section type :	Online
Mandatory or Optional :	Mandatory
Number of Questions :	30
Number of Questions to be attempted :	30
Section Marks :	60
Section Negative Marks :	0.5
Maximum Instruction Time :	0
Sub-Section Number :	1
Sub-Section Id :	66862230
Question Shuffling Allowed :	Yes

Question Number : 51 Question Id : 668622381 Question Type : MCQ Option Shuffling : No Negative Marks Display Text : 1/4

Correct Marks : 2 Wrong Marks : 0.5

Find the missing number in the following number series.

7, 11, 18, 28, ?, 57, 76

1. 39
2. 43
3. 41
4. 47

Question Number : 51 Question Id : 668622381 Question Type : MCQ Option Shuffling : No Negative Marks Display Text : 1/4

Correct Marks : 2 Wrong Marks : 0.5

निम्न संख्या शृंखला में अनुपस्थित संख्या को छांटिए।

7, 11, 18, 28, ?, 57, 76

1. 39
2. 43
3. 41
4. 47

Question Number : 52 Question Id : 668622382 Question Type : MCQ Option Shuffling : No Negative Marks Display Text : 1/4

Correct Marks : 2 Wrong Marks : 0.5

Select the option that is related to the third term the same way as the second term is related to the first term and the sixth term is related to the fifth term.

$$36 : 18 :: 54 : ? :: 86 : 48$$

1. 36
2. 20
3. 24
4. 28

Question Number : 52 Question Id : 668622382 Question Type : MCQ Option Shuffling : No Negative Marks Display Text : 1/4

Correct Marks : 2 Wrong Marks : 0.5

प्रश्नवाचक चिह्न की जगह भरने के लिए निम्न विकल्पों में से उस उपयुक्त संख्या को चुनिए, जो तीसरे टर्म से उसी प्रकार से संबन्धित हो जिस प्रकार कि दूसरा टर्म प्रथम से संबन्धित है और छठा टर्म पांचवें से संबन्धित है।

$$36 : 18 :: 54 : ? :: 86 : 48$$

1. 36
2. 20
3. 24
4. 28

Question Number : 53 Question Id : 668622383 Question Type : MCQ Option Shuffling : No Negative Marks Display Text : 1/4

Correct Marks : 2 Wrong Marks : 0.5

Which term will come next in the following series?

ACB, FDE, GIH, LJK, MON, ?

1. PRQ
2. SQR
3. RQP
4. RPQ

Question Number : 53 Question Id : 668622383 Question Type : MCQ Option Shuffling : No Negative Marks Display Text : 1/4

Correct Marks : 2 Wrong Marks : 0.5

निम्न शृंखला में कौन-सा विकल्प बाद में आएगा ?

ACB, FDE, GIH, LJK, MON, ?

1. PRQ
2. SQR
3. RQP
4. RPQ

Question Number : 54 Question Id : 668622384 Question Type : MCQ Option Shuffling : No Negative Marks Display Text : 1/4

Correct Marks : 2 Wrong Marks : 0.5

If $16 \times 8 = 32$ and $49 \times 12 = 84$, then $25 \times 14 = ?$

1. 70
2. 56
3. 84
4. 69

Question Number : 54 Question Id : 668622384 Question Type : MCQ Option Shuffling : No Negative Marks Display Text : 1/4

Correct Marks : 2 Wrong Marks : 0.5

यदि $16 \times 8 = 32$ और $49 \times 12 = 84$, तो $25 \times 14 = ?$

1. 70
2. 56
3. 84
4. 69

Question Number : 55 Question Id : 668622385 Question Type : MCQ Option Shuffling : No Negative Marks Display Text : 1/4

Correct Marks : 2 Wrong Marks : 0.5

Three of the following four terms are alike in a certain way and one is different. Find the odd one.

1. J817S
2. D213P
3. H620V
4. F410L

Question Number : 55 Question Id : 668622385 Question Type : MCQ Option Shuffling : No Negative Marks Display Text : 1/4

Correct Marks : 2 Wrong Marks : 0.5

दिए गए चार विकल्पों में से तीन अभिव्यक्तियाँ एक निश्चित विधि से एक जैसे हैं पर एक भिन्न है। आप उस भिन्न अभिव्यक्ति को छांटिए।

1. J817S
2. D213P
3. H620V
4. F410L

Question Number : 56 Question Id : 668622386 Question Type : MCQ Option Shuffling : No Negative Marks Display Text : 1/4

Correct Marks : 2 Wrong Marks : 0.5

Four girls, A, B, C, D, and four boys E, F, G, H are sitting around a square table facing the center. Four sit at the corners and four along the sides of the table.

No two boys are adjacent to each other. E is facing H, who is third to the left of D. F is third to the right of B. C is an immediate neighbor of F, but is not facing D.

Who are the two persons sitting between B and E?

1. C and H
2. A and F
3. C and G
4. A and G

Question Number : 56 Question Id : 668622386 Question Type : MCQ Option Shuffling : No Negative Marks Display Text : 1/4

Correct Marks : 2 Wrong Marks : 0.5

एक वर्गाकार मेज की चारों ओर A, B, C, D नाम की चार बालिकाएँ और E, F, G, H नाम के चार बालक केंद्र की ओर मुँह करके बैठे हैं। मेज के चारों कोनों में चार और मेज के किनारे चार बैठे हैं।

बालकों में से कोई भी दो पास-पास नहीं बैठे हैं। E का मुँह H की ओर है, जो कि D की बाईं ओर तीसरे स्थान पर है। F, B की दाहिनी ओर तीसरे स्थान पर है। C, F का पड़ोसी है, पर उसका मुँह D की ओर नहीं है।

B और E के बीच बैठे दो कौन-कौन हैं?

1. C और H
2. A और F
3. C और G
4. A और G

Question Number : 57 Question Id : 668622387 Question Type : MCQ Option Shuffling : No Negative Marks Display Text : 1/4

Correct Marks : 2 Wrong Marks : 0.5

Three of the four words given in the options are alike in a certain way and one is different. Find the odd one out.

1. Carrot
2. Potato
3. Tomato
4. Radish

Question Number : 57 Question Id : 668622387 Question Type : MCQ Option Shuffling : No Negative Marks Display Text : 1/4

Correct Marks : 2 Wrong Marks : 0.5

चार विकल्पों में से तीन शब्द परस्पर एक विशेष विधि से एक जैसे हैं पर एक अलग है; आप उस अलग शब्द का चयन कीजिए।

1. गाजर
2. आलू
3. टमाटर
4. मूली

Question Number : 58 Question Id : 668622388 Question Type : MCQ Option Shuffling : No Negative Marks Display Text : 1/4

Correct Marks : 2 Wrong Marks : 0.5

The two letter-clusters on the left of the sign ‘::’ are related in a particular way. The same relationship holds for the two letter-clusters on the right of the sign ‘::’ of which one is missing. Find the missing one.

BEHK : YBEH :: GJMP : ?

1. TWZC
2. TQNK
3. SVYB
4. UWYA

Question Number : 58 Question Id : 668622388 Question Type : MCQ Option Shuffling : No Negative Marks Display Text : 1/4

Correct Marks : 2 Wrong Marks : 0.5

‘::’ चिह्न से पहले दिए गए अक्षर-समूह परस्पर एक प्रकार से संबन्धित हैं। ‘::’ चिह्न के बाद वाले दोनों अक्षर समूह भी उसी प्रकार परस्पर संबन्धित हैं, पर उनमें से एक अनुपस्थित है। दिए गए विकल्पों में से उस अनुपस्थित अक्षर समूह की पहचान कीजिए।

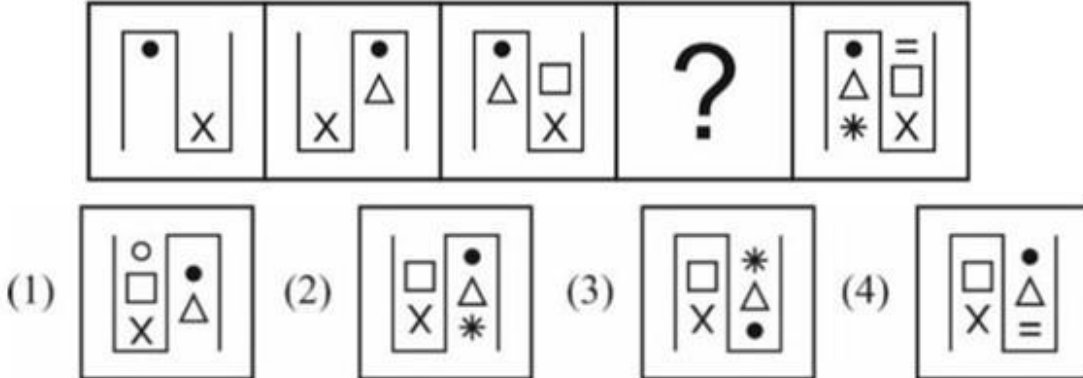
BEHK : YBEH :: GJMP : ?

1. TWZC
2. TQNK
3. SVYB
4. UWYA

Question Number : 59 Question Id : 668622389 Question Type : MCQ Option Shuffling : No Negative Marks Display Text : 1/4

Correct Marks : 2 Wrong Marks : 0.5

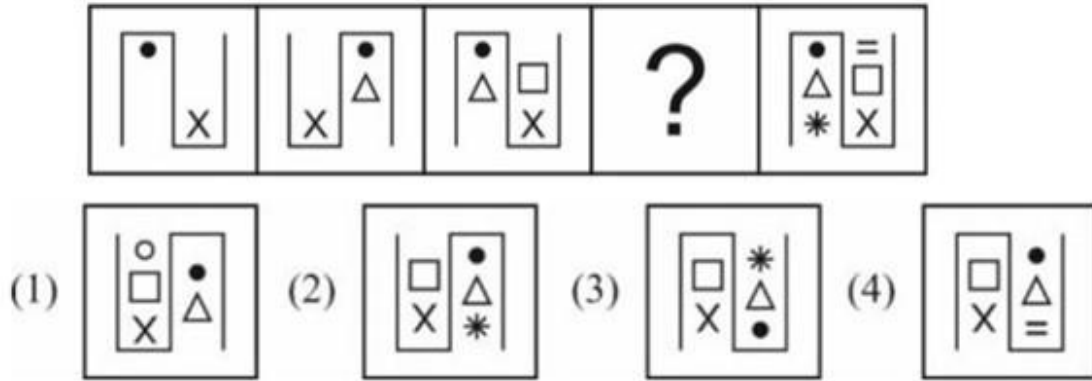
Which is the missing figure in the following figure series?



Question Number : 59 Question Id : 668622389 Question Type : MCQ Option Shuffling : No Negative Marks Display Text : 1/4

Correct Marks : 2 Wrong Marks : 0.5

निम्न आरेख शृंखला में कौन-सा आरेख नहीं है?



Question Number : 60 Question Id : 668622390 Question Type : MCQ Option Shuffling : No Negative Marks Display Text : 1/4

Correct Marks : 2 Wrong Marks : 0.5

The following three items are related in a certain way. Which of the options contain three items related the same way?

Clock, Wall, Mural

1. Mattress, Bed Pillow
2. Pen, Colour, Pencil
3. Plant, Flower, Bush
4. Street, Highway, Shop

Question Number : 60 Question Id : 668622390 Question Type : MCQ Option Shuffling : No Negative Marks Display Text : 1/4

Correct Marks : 2 Wrong Marks : 0.5

नीचे दी गई चीजें परस्पर एक विशेष प्रकार से संबन्धित हैं। किस विकल्प की तीन चीजें परस्पर उसी प्रकार से संबन्धित हैं।

घड़ी, दीवार, भित्ति-चित्र

1. गद्दा, चारपाई, तकिया
2. कलम, रंग, पेंसिल
3. पौधा, फूल, झाड़ी
4. गली, राजमार्ग, दुकान

Question Number : 61 Question Id : 668622391 Question Type : MCQ Option Shuffling : No Negative Marks Display Text : 1/4

Correct Marks : 2 Wrong Marks : 0.5

Harish walks 200 meters Southward from his home, takes a left turn and walks 150 meters. Then, he takes two successive right turns walking 120 and 200 meters respectively. Finally, he takes a right turn and walks 200 meters to reach the temple. What is the shortest distance between Harish's home and the temple?

1. 150 meters
2. 130 meters
3. 120 meters
4. 100 meters

Question Number : 61 Question Id : 668622391 Question Type : MCQ Option Shuffling : No Negative Marks Display Text : 1/4

Correct Marks : 2 Wrong Marks : 0.5

हरीश अपने घर से दक्षिण की ओर 200 मीटर जाकर बाईं ओर घूमकर फिर 150 मीटर चलता है। उसके बाद वह दो बार दाहिनी ओर मुड़ते हुए क्रमशः 120 और 200 मीटर चलता है। अंत में वह और एक बार दाहिनी ओर मुड़कर और 200 मीटर चलते हुए मंदिर के पास पहुंचता है। हरीश के घर और मंदिर के बीच की सर्वनिम्न दूरी कितनी है?

1. 150 मीटर
2. 130 मीटर
3. 120 मीटर
4. 100 मीटर

Question Number : 62 Question Id : 668622392 Question Type : MCQ Option Shuffling : No Negative Marks Display Text : 1/4

Correct Marks : 2 Wrong Marks : 0.5

The ratio of the number of boys to that of girls in a class is 3:4. Kartik is 7th among boys from the top. Ishita, whose position is just below Kartik, is 10th among girls from the bottom. If Ishita's rank is 14th from the top in the class, how many students are there in the class?

1. 28
2. 35
3. 21
4. 42

Question Number : 62 Question Id : 668622392 Question Type : MCQ Option Shuffling : No Negative Marks Display Text : 1/4

Correct Marks : 2 Wrong Marks : 0.5

एक कक्षा में बालक और बालिकाओं की संख्या का अनुपात 3:4 है। बालकों में कार्तिक का स्थान ऊपर से सातवाँ है। इशिता, जिसका स्थान कार्तिक के ठीक नीचे है, बालिकाओं में नीचे से 10वें स्थान पर है। इशिता यदि पूरी कक्षा में ऊपर से 14वें स्थान पर हो तो उस कक्षा में कुल कितने विद्यार्थी हैं?

1. 28
2. 35
3. 21
4. 42

Question Number : 63 Question Id : 668622393 Question Type : MCQ Option Shuffling : No Negative Marks Display Text : 1/4

Correct Marks : 2 Wrong Marks : 0.5

The two words given below are related in a certain way. Which of the options contain two words that are related the same way?

Month : Year

1. Seconds : Hour
2. Year : Century
3. Hour : Time
4. Days : Week

Question Number : 63 Question Id : 668622393 Question Type : MCQ Option Shuffling : No Negative Marks Display Text : 1/4

Correct Marks : 2 Wrong Marks : 0.5

नीची दिए गए दो शब्द परस्पर एक विशेष प्रकार से संबन्धित हैं। दिए गए किस विकल्प के दोनों शब्द परस्पर उसी प्रकार से संबन्धित हैं?

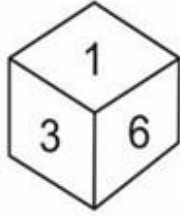
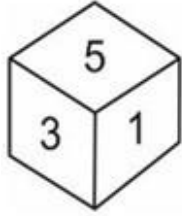
महीना : वर्ष

1. सेकेंड : घंटा
2. वर्ष : शताब्दी
3. घंटा : समय
4. दिन : सप्ताह

Question Number : 64 Question Id : 668622394 Question Type : MCQ Option Shuffling : No Negative Marks Display Text : 1/4

Correct Marks : 2 Wrong Marks : 0.5

Three positions of a dice are shown below. Which number will on the top face, if '4' is the bottom face?

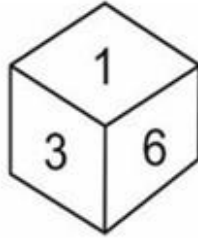
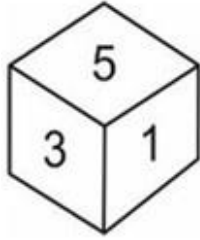


1. 1
2. 3
3. 6
4. 2

Question Number : 64 Question Id : 668622394 Question Type : MCQ Option Shuffling : No Negative Marks Display Text : 1/4

Correct Marks : 2 Wrong Marks : 0.5

नीचे एक पाशे की तीन स्थितियाँ दी गई हैं। यदि 4 नीचे की ओर हो तो ऊपर कौन-सी संख्या होगी?



1. 1
2. 3
3. 6
4. 2

Question Number : 65 Question Id : 668622395 Question Type : MCQ Option Shuffling : No Negative Marks Display Text : 1/4

Correct Marks : 2 Wrong Marks : 0.5

How many times, during 12 hours, the hour and the minute hands of a clock will be at right angles to each other?

1. 11
2. 12
3. 22
4. 24

Question Number : 65 Question Id : 668622395 Question Type : MCQ Option Shuffling : No Negative Marks Display Text : 1/4

Correct Marks : 2 Wrong Marks : 0.5

12 घंटों में कितनी बार एक घड़ी में घंटे और मिनट की सुई परस्पर समकोण में रहेंगी?

1. 11
2. 12
3. 22
4. 24

Question Number : 66 Question Id : 668622396 Question Type : MCQ Option Shuffling : No Negative Marks Display Text : 1/4

Correct Marks : 2 Wrong Marks : 0.5

How many times in the following number sequence a number divisible by 3 is immediately followed by an even number but is not immediately preceded by an odd number?

26, 31, 18, 14, 42, 21, 30, 16, 36, 24, 42, 33, 21, 15, 42, 36, 24, 18, 15, 27

1. 5
2. 6
3. 7
4. 8

Question Number : 66 Question Id : 668622396 Question Type : MCQ Option Shuffling : No Negative Marks Display Text : 1/4

Correct Marks : 2 Wrong Marks : 0.5

नीचे दी गई संख्या-श्रृंखला में 3 द्वारा विभाज्य ऐसी कितनी संख्याएँ हैं जिसके ठीक बाद में एक समसंख्या हो पर उसके ठीक पहले कोई विषम संख्या न हो?

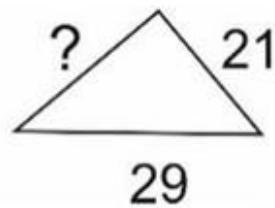
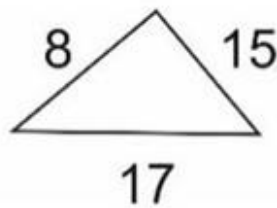
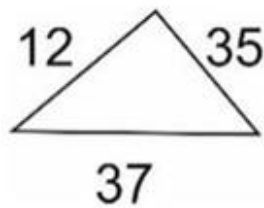
26, 31, 18, 14, 42, 21, 30, 16, 36, 24, 42, 33, 21, 15, 42, 36, 24, 18, 15, 27

1. 5
2. 6
3. 7
4. 8

Question Number : 67 Question Id : 668622397 Question Type : MCQ Option Shuffling : No Negative Marks Display Text : 1/4

Correct Marks : 2 Wrong Marks : 0.5

The numbers in the following figures follow a pattern. Find the missing number.

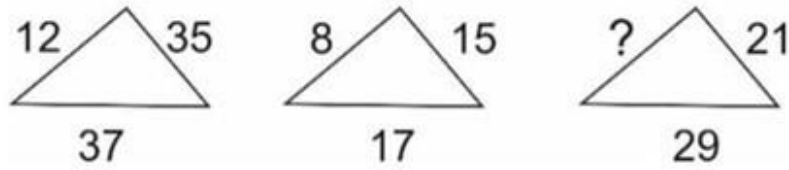


1. 18
2. 20
3. 23
4. 25

Question Number : 67 Question Id : 668622397 Question Type : MCQ Option Shuffling : No Negative Marks Display Text : 1/4

Correct Marks : 2 Wrong Marks : 0.5

निम्न आरेखों में संख्याएँ एक विशेष विधि का अनुसरण करती हैं। अनुपस्थित संख्या की पहचान कीजिए।

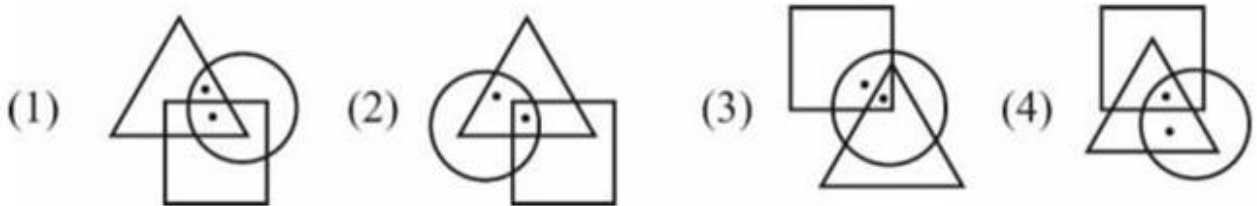


1. 18
2. 20
3. 23
4. 25

Question Number : 68 Question Id : 668622398 Question Type : MCQ Option Shuffling : No Negative Marks Display Text : 1/4

Correct Marks : 2 Wrong Marks : 0.5

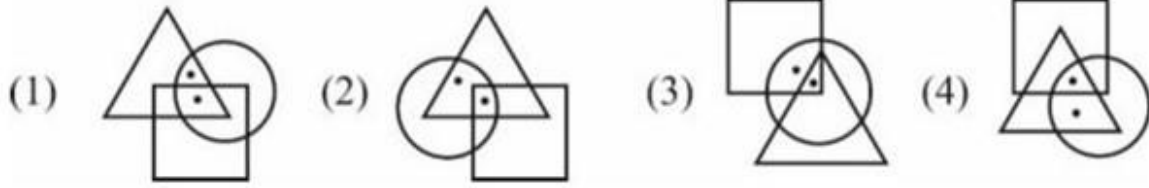
Three of the following figures are alike in a certain way. Find the odd one.



Question Number : 68 Question Id : 668622398 Question Type : MCQ Option Shuffling : No Negative Marks Display Text : 1/4

Correct Marks : 2 Wrong Marks : 0.5

नीचे दिए गए आरेखों में से तीन एक विशेष प्रकार से एक जैसे हैं, पर एक अलग है। उस विषम आरेख को पहचानिए।



Question Number : 69 Question Id : 668622399 Question Type : MCQ Option Shuffling : No Negative Marks Display Text : 1/4

Correct Marks : 2 Wrong Marks : 0.5

A statement is followed by two arguments numbered I and II. Decide which of the arguments is/are strong. (A weak argument is one which is not directly related to the question or is of minor importance as it reflects a trivial aspect of the question)

Statement: Should a democratic country have only two political parties?

Arguments

- I. Yes. Some voters get confused regarding whom to vote for, when too many parties spring like mushrooms.
- II.No. Every party has its ideology and all the different ideologies cannot be blended together into two broad categories.

- 1. Only I is strong
- 2. Only II is strong
- 3. Both I and II are strong
- 4. Neither I nor II is strong

Question Number : 69 Question Id : 668622399 Question Type : MCQ Option Shuffling : No Negative Marks Display Text : 1/4

Correct Marks : 2 Wrong Marks : 0.5

एक कथन के बाद दो तर्क I और II दिए गए हैं। यह निर्णय कीजिए कि इनमें से कौन-सा तर्क सशक्त है। (एक दुर्बल तर्क का प्रश्न के साथ सीधा संबंध नहीं होता; अथवा वह प्रश्न के मामूली पक्ष को प्रतिबिम्बित करता है)

कथन : क्या एक गणतांत्रिक देश में केवल दो ही राजनीतिक दल होने चाहिए?

तर्क-I : बहुत सारे राजनीतिक दल कुकुरमुत्ते की तरह उभरने लगते हैं तो मतदाता किसे वोट दें तय नहीं कर पाते।

तर्क-II : नहीं। प्रत्येक दल कि अपनी विचारधारा होती है; और विभिन्न विचारधाराएँ दो व्यापक वर्गों में एक साथ मिश्रित नहीं हो सकतीं।

1. केवल I सशक्त है
2. केवल II सशक्त है
3. I और II दोनों सशक्त है
4. I और II दोनों में से कोई भी सशक्त नहीं है

Question Number : 70 Question Id : 668622400 Question Type : MCQ Option Shuffling : No Negative Marks Display Text : 1/4

Correct Marks : 2 Wrong Marks : 0.5

Which two signs in the following equation should be interchanged to make it correct?

$$20 + 4 \div 3 \times 12 - 6 = 10$$

- (1) \times and $+$
- (2) \div and \times
- (3) $-$ and \div
- (4) $+$ and $-$

Question Number : 70 Question Id : 668622400 Question Type : MCQ Option Shuffling : No Negative Marks Display Text : 1/4

Correct Marks : 2 Wrong Marks : 0.5

निम्न समीकरण को ठीक करने के लिए कौन से दो चिह्नों की अदला-बदली करनी होगी?

$$20 + 4 \div 3 \times 12 - 6 = 10$$

1. \times and $+$
2. \div and \times
3. $-$ and \div
4. $+$ and $-$

Question Number : 71 Question Id : 668622401 Question Type : MCQ Option Shuffling : No Negative Marks Display Text : 1/4

Correct Marks : 2 Wrong Marks : 0.5

Sikha's average runs per match before the start of the current women's national cricket series was 32 runs. In the women's national series, Sikha scored 480 runs in 12 matches as a result of which her new average score for all the matches she played till date became 36.

How many matches did Sikha play till date?

1. 12
2. 20
3. 22
4. 24

Question Number : 71 Question Id : 668622401 Question Type : MCQ Option Shuffling : No Negative Marks Display Text : 1/4

Correct Marks : 2 Wrong Marks : 0.5

वर्तमान राष्ट्रीय क्रिकेट शृंखला के शुरू होने से पहले शिखा की प्रति मैच औसत रन संख्या 32 थी। महिला राष्ट्रीय शृंखला के 12 मैचों में उन्होंने 480 रन बनाए, जिससे अब तक उनके खेले गए सभी मैचों का नई औसत रन संख्या 36 हो गई।

शिखा ने अब तक कितने मैच खेले हैं?

1. 12
2. 20
3. 22
4. 24

Question Number : 72 Question Id : 668622402 Question Type : MCQ Option Shuffling : No Negative Marks Display Text : 1/4

Correct Marks : 2 Wrong Marks : 0.5

In a certain code, if NIGHT is coded as 53 and CHILDREN is coded as 65, what will be the code for DRIVER?

1. 65
2. 70
3. 71
4. 57

Question Number : 72 Question Id : 668622402 Question Type : MCQ Option Shuffling : No Negative Marks Display Text : 1/4

Correct Marks : 2 Wrong Marks : 0.5

किसी कोड में NIGHT को 53 और CHILDREN को 65 के रूप में लिखा जाता है; इस कोड में DRIVER का कोड क्या होगा?

1. 65
2. 70
3. 71
4. 57

Question Number : 73 Question Id : 668622403 Question Type : MCQ Option Shuffling : No Negative Marks Display Text : 1/4

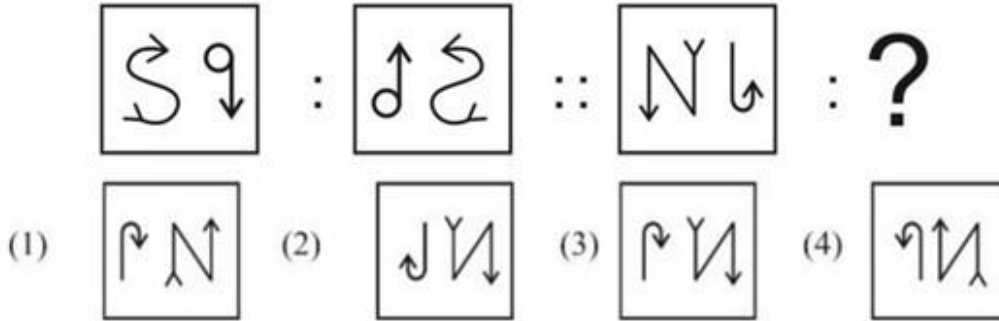
Correct Marks : 2 Wrong Marks : 0.5

The two figures on the left of ‘::’ are related in a certain way. The two figures on the right of ‘::’ are related the same way but one of the figures is missing. Find the missing figure from the options.

Question Number : 73 Question Id : 668622403 Question Type : MCQ Option Shuffling : No Negative Marks Display Text : 1/4

Correct Marks : 2 Wrong Marks : 0.5

‘::’ बाईं ओर वाले दो आरेख परस्पर एक निश्चित प्रकार से संबन्धित हैं, ‘:’ की दाहिनी ओर के दोनों आरेख भी उसी प्रकार से परस्पर संबन्धित हैं, पर उनमें से एक अनुपस्थित है। उस अनुपस्थित आरेख की पहचान कीजिए।



Question Number : 74 Question Id : 668622404 Question Type : MCQ Option Shuffling : No Negative Marks Display Text : 1/4

Correct Marks : 2 Wrong Marks : 0.5

In a certain code, A % B means ‘A is the brother of B’; A @ B means ‘A is the son of B’; A \$ B means ‘A is the daughter of B’; A # B means ‘A is the mother of B’; and A * B means ‘A is the husband of B.’

If P @ Q % R \$ T * W # Z, which of the following is definitely true?

1. W is the mother of P.
2. R and Z are sisters.
3. Z is the aunt of P.
4. P is the nephew of Z.

Question Number : 74 Question Id : 668622404 Question Type : MCQ Option Shuffling : No Negative Marks Display Text : 1/4

Correct Marks : 2 Wrong Marks : 0.5

किसी कोड में A % B का अर्थ 'A, B का भाई है; A @ B का अर्थ 'A, B का बेटा है;'; A \$ B का अर्थ 'A, B की बेटी है; A # B का अर्थ 'A, B की माँ है; और A * B का अर्थ 'A, B का पति है।

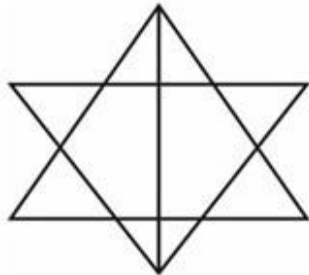
यदि P @ Q % R \$ T * W # Z हो तो इनमें से कौन-सा निश्चित रूप से सही है?

1. W, P की माँ है
2. R और Z बहनें हैं
3. Z, P की मौसी/चाची है
4. P, Z का भांजा/भतीजा है

Question Number : 75 Question Id : 668622405 Question Type : MCQ Option Shuffling : No Negative Marks Display Text : 1/4

Correct Marks : 2 Wrong Marks : 0.5

How many triangles are there in the following figure?

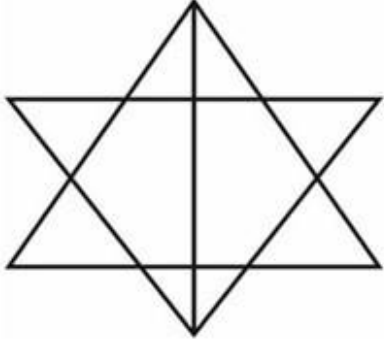


1. 18
2. 16
3. 15
4. 14

Question Number : 75 Question Id : 668622405 Question Type : MCQ Option Shuffling : No Negative Marks Display Text : 1/4

Correct Marks : 2 Wrong Marks : 0.5

निम्न आरेख में कितने त्रिकोण हैं?



1. 18
2. 16
3. 15
4. 14

Question Number : 76 Question Id : 668622406 Question Type : MCQ Option Shuffling : No Negative Marks Display Text : 1/4

Correct Marks : 2 Wrong Marks : 0.5

P, Q, R, S and T are in different professions – lawyer, doctor, professor, engineer and manager. P and S are neither doctors nor engineers. Either S or T is a lawyer. Q is a professor and R is not an engineer.

Who among them is the manager?

1. T
2. S
3. R
4. P

Question Number : 76 Question Id : 668622406 Question Type : MCQ Option Shuffling : No Negative Marks Display Text : 1/4

Correct Marks : 2 Wrong Marks : 0.5

P, Q, R, S और T विभिन्न पेशों में काम करते हैं, जैसे वकील, डॉक्टर, प्रोफेसर, इंजीनियर और मैनेजर। P और S डॉक्टर या इंजीनियर नहीं हैं। E या S में से कोई एक वकील है। Q प्रोफेसर हैं और R इंजीनियर नहीं हैं।

इनमें से कौन मैनेजर हैं?

1. T
2. S
3. R
4. P

Question Number : 77 Question Id : 668622407 Question Type : MCQ Option Shuffling : No Negative Marks Display Text : 1/4

Correct Marks : 2 Wrong Marks : 0.5

The average monthly salary of all the employees of a company is Rs. 72,000.

The average monthly salary of the 70 employees in a company is Rs. 90,000.

The average salary of the remaining employees is Rs. 70,000.

How many employees are there in the company?

1. 630
2. 700
3. 720
4. 420

Question Number : 77 Question Id : 668622407 Question Type : MCQ Option Shuffling : No Negative Marks Display Text : 1/4

Correct Marks : 2 Wrong Marks : 0.5

एक कंपनी के सभी कर्मचारियों का औसत मासिक वेतन 72,000 रुपये है। कंपनी के 70 कर्मचारियों का औसत मासिक वेतन 90,000 रुपये है। शेष कर्मचारियों का औसत मासिक वेतन 70,000 रुपये है।

कंपनी में कुल कितने कर्मचारी हैं।

1. 630
2. 700
3. 720
4. 420

Question Number : 78 Question Id : 668622408 Question Type : MCQ Option Shuffling : No Negative Marks Display Text : 1/4

Correct Marks : 2 Wrong Marks : 0.5

Three statements are followed by three conclusions. The symbols used have different meanings as follows.

A @ B means A is not smaller than B; A # B means A is not greater than B; A & B means A is neither smaller than nor equal to B; A % B means A is neither greater than nor equal to B; and A \$ B means A is neither smaller than nor greater than B.

Decide which of the conclusions is/are true.

Statements: Q \$ R; S % R; Q @ P; T # S

Conclusions:

I. R @ P; II. S % Q; III. P & S

1. Only I is true
2. Only II is true
3. Only I and II are true
4. Only I and III are true

Question Number : 78 Question Id : 668622408 Question Type : MCQ Option Shuffling : No Negative Marks Display Text : 1/4

Correct Marks : 2 Wrong Marks : 0.5

तीन कथनों के बाद तीन निष्कर्ष दिए गए हैं। इनमें प्रयुक्त संकेतों के विविध अर्थ हैं। जैसे-

A @ B का अर्थ है 'A, B से छोटा नहीं है'; A # B का अर्थ है 'A, B से बड़ा नहीं है'; A & B का अर्थ 'A, B से न छोटा है और न बराबर है'; A % B का अर्थ है 'A, B से न बड़ा है और न बराबर है'; और A \$ B का अर्थ है 'A, B से न छोटा है और न बड़ा है'। निम्न विकल्पों में से कौन-सा/से निष्कर्ष सही है/हैं बताइए।

कथन : Q \$ R; S % R; Q @ P; T # S

निष्कर्ष :

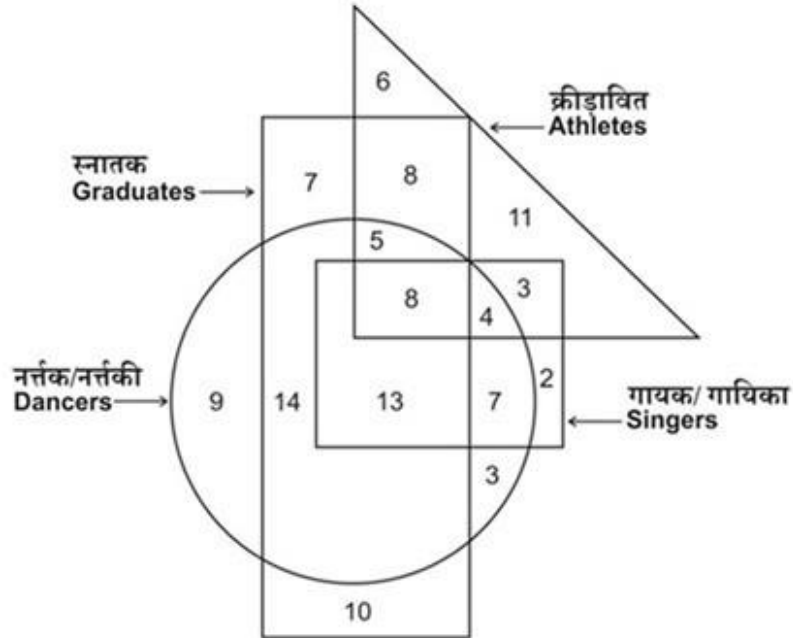
I. R @ P; II. S % Q; III. P & S

1. केवल I सही है
2. केवल II सही है
3. केवल I और II सही है
4. केवल I और III सही है

Question Number : 79 Question Id : 668622409 Question Type : MCQ Option Shuffling : No Negative Marks Display Text : 1/4

Correct Marks : 2 Wrong Marks : 0.5

The following diagram shows different categories of people. The numbers in different sections indicate the number of persons. How many graduate dancers are athletes but not singers?

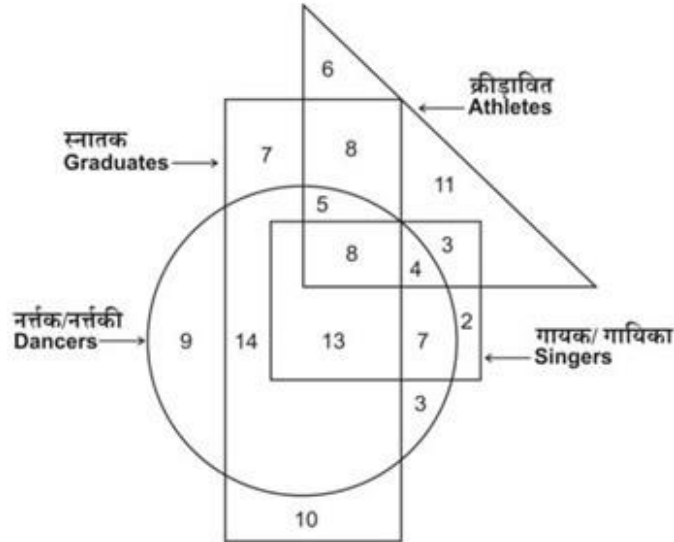


1. 5
2. 8
3. 13
4. 18

Question Number : 79 Question Id : 668622409 Question Type : MCQ Option Shuffling : No Negative Marks Display Text : 1/4

Correct Marks : 2 Wrong Marks : 0.5

निम्न आरेख लोगों के विभिन्न वर्गों को सूचित करता है। विभिन्न अनुभागों में लोगों की संख्या अंकित है। यह बताइए कि कितने स्नातक नर्तक/नर्तकी क्रीड़ावित हैं पर गायक नहीं ?



1. 5
2. 8
3. 13
4. 18

Question Number : 80 Question Id : 668622410 Question Type : MCQ Option Shuffling : No Negative Marks Display Text : 1/4

Correct Marks : 2 Wrong Marks : 0.5

Three statements are followed by three conclusions Assuming the statements to be true, decide which of the conclusion(s) logically follow(s).

Statements:

1. Some employees are administrators.
2. All administrators are officers.
3. Some officers are executives

Conclusions:

- I. It is possible that all employees are officers.
- II. No administrator is executive.
- III. All executives being employees is a possibility

1. Only I follows
2. Only I and III follow
3. Only I and II follow
4. All of I, II and III follow

Question Number : 80 Question Id : 668622410 Question Type : MCQ Option Shuffling : No Negative Marks Display Text : 1/4

Correct Marks : 2 Wrong Marks : 0.5

तीन कथनों के बाद तीन निष्कर्ष दिए गए हैं। कथनों को सही मानें तो यह बताइए कि कौन-सा/से निष्कर्ष तर्कसंगत रूप से सही हैं।

कथन :

1. कुछ कर्मचारी प्रशासक हैं
2. सभी प्रशासक अधिकारी हैं
3. कुछ अधिकारी कार्यवाहक हैं

निष्कर्ष :

- I. यह संभव है कि सभी कर्मचारी अधिकारी हैं
 - II. कोई भी प्रशासक कार्यवाहक नहीं है
 - III. संभव है, सारे कार्यवाहक कर्मचारी हैं
1. केवल I सही है
 2. केवल I और III सही है
 3. केवल I और II सही है
 4. I, II और III तीनों सही है